

版权所有

复制必究

## 2015 年广东省事业单位统招 综合类 zhen 题

### 重要提示：

为维护您的个人权益，确保事业单位考试的公平公正，请您协助我们监督考试实施工作。

本场考试规定：监考老师要向本考场全体考生展示题本密封情况，并邀请 2 名考生代表验封签字后，方能开启试卷袋。

二〇二〇年

姓名



请扫描二维码

添加汕头闻思客服

回复：事业单位

进备考群学习交流

## 注意事项

这项测验共有两个部分，100 道题，总时限为 90 分钟。

请在机读答题卡上严格按照要求填写好自己的姓名、涂写准考证号。

请仔细阅读下面的注意事项，这对你获得成功非常重要：

1. 题目应在答题卡上作答，不要在试题本上作任何记号。
2. 监考人员宣布考试开始时，你才可以开始答题。
3. 监考人员宣布考试结束时，你应立即放下铅笔，将试题本、答题卡和草稿纸都留在桌上，然后离开。
4. 在这项测验中，可能有一些试题较难，因此你不要在一道题上思考时间太久，遇到不会答的题目，可先跳过去，如果有时间再去思考。否则，你可能没有时间完成后面的题目。
5. 试题答错不倒扣分。
6. 特别提醒你注意，涂写答案时一定要认准题号。严禁折叠答题卡！
7. 考生可以在试题本的空白位置及草稿上进行演算。

这项测验要求你必须严格按照监考人员的指示去做，否则，会影响你的成绩！

停！请不要往下翻！听候监考老师的指示。  
否则，会影响你的成绩。

# 2015 年广东省事业单位统招

## 综合类 zhen 题

1. (对错题) 全面推进依法治国, 总目标是建设中国特色社会主义法治体系, 建设社会主义和谐社会。 ( )

A. 正确

B. 错误

【正确答案】: B

【解析】

第一步, 本题考查中国特色社会主义理论体系知识。

第二步, 十八届四中全会提出, 全面推进依法治国, 总目标是建设中国特色社会主义法治体系, 建设社会主义法治国家。不是建设社会主义和谐社会, 题干表述错误。

因此, 本题错误。

【拓展】

党的十八大提出“科学立法、严格执法、公正司法、全民守法”。这十六字是中国新时期依法治国的“新十六字方针”, 也是法治中国建设的衡量标准。

2. (对错题) 党的十八届三中全会确定了中国经济体制改革目标, 核心问题是正确处理计划与市场的关系。 ( )

A. 正确

B. 错误

【正确答案】: B

【解析】

第一步, 本题考查中国特色社会主义理论体系知识。

第二步, 党的十八届三中全会对全面深化改革作出了战略部署。经济体制改革是全面深化改革的重点, 核心问题是处理好政府和市场的关系, 使市场在资源配置中起决定性作用和更好发挥政府作用。题干中提到的核心问题是处理计划和市场关系表述错误。

因此, 本题错误。

【拓展】

经济体制改革具体内容: 经济体制改革具体内容: (一) 推进转变推动经济结构的调整, 促进全面可持续发展。(二) 深化社会领域改革, 保障和改善民生。(三) 深化行政体制改革, 加强廉政建设。(四) 深化农村改革, 完善体制机制。(五) 处理好政府和市场的关系是经济体制改革的核心问题, 是政府和企业、经济界和理论界关注的重点, 也是推进国家治理体系和治理能力现代化的必然要求。

3. (对错题) 我国发展经济的根本目的是提高人民的生活水平和质量。 ( )

A. 正确

B. 错误

【正确答案】: A

【解析】

第一步, 本题考查中国特色社会主义理论体系知识。

第二步, 全面建设小康社会的出发点和最终落脚点, 是提高全国人民的生活水平和质量。党的十六大报告指出: 发展经济的根本目的是提高全国人民的生活水平和质量。要随着经济发展不断增加城乡居民收入, 拓宽消费领域, 优化消费结构, 满足人们多样化的物质文化需求。

因此, 本题正确。

【拓展】

十八届五中全会提出, 坚持共享发展, 必须坚持发展为了人民, 发展依靠人民, 发展成果由人民共享, 作出更有效的制度安排, 使全体人民在共建共享发展中有更多获得感, 增强发展动力, 增进人民团结, 朝着共同富裕方向稳步

前进。

4. (对错题) “三农问题”中的“三农”指的是农民、农村和农田。( )

A.正确

B.错误

【正确答案】： B

【解析】

第一步，本题考查中国特色社会主义理论体系。

第二步，“三农”问题是指农村、农业、农民这三大问题。“三农”问题实际上是一个从事行业、居住地域和主体身份三位一体的问题，即指在广大乡村区域，以种植业（养殖业）为主，身份为农民的生存状态的改善、产业发展以及社会进步问题。

因此，本题错误。

5. (对错题) 剥夺政治权利属于我国刑罚的附加刑。( )

A.正确

B.错误

【正确答案】： A

【解析】

第一步，本题考查刑法知识。

第二步，根据《刑法》第三十四条，附加刑的种类如下：（一）罚金；（二）剥夺政治权利；（三）没收财产。附加刑也可以独立适用。

根据《刑法》第三十五条，对于犯罪的外国人，可以独立适用或者附加适用驱逐出境。

因此，本题正确。

【拓展】

根据《刑法》第三十三条，刑罚分为主刑和附加刑。主刑的种类如下：（一）管制；（二）拘役；（三）有期徒刑；（四）无期徒刑；（五）死刑。

根据《刑法》第五十四条，剥夺政治权利的含义，剥夺政治权利是剥夺下列权利：

（一）选举权和被选举权；

（二）言论、出版、集会、结社、游行、示威自由的权利；

（三）担任国家机关职务的权利；

（四）担任国有公司、企业、事业单位和人民团体领导职务的权利。

6. (对错题) 用电量一般用“度”来衡量，理论上一度电可供一只 50 瓦的灯泡照明 20 个小时。( )

A.正确

B.错误

【正确答案】： A

【解析】

第一步，本题考查物理知识。

第二步，1 度=1 千瓦时=1 千瓦×1 小时=1000 瓦×1 小时也就是 1000 瓦（W）的用电器用一个小时的用电量就是一度电，1 度=1 千瓦时（KW/H）。50 瓦×20 小时=1 千瓦时（KW/H）=一度。

因此，本题正确。

【拓展】

一度电的用途：25 瓦的灯泡能连续点亮 40 小时；普通电风扇能连续运行 15 小时；电视机能开 10 小时；家用冰箱能运行 36 小时；能用吸尘器把房间打扫 5 遍；能将 8 公斤的水烧开；能使电动自行车跑上 80 公里；可用电炒锅烧两个菜；可借助电热淋浴器洗澡。

7. (对错题) 我们通常说的晕车和晕船，是因为位于耳朵的体内平衡感受器受到了刺激使人感到眩晕和不适。( )

A.正确

B.错误

【正确答案】： A

【解析】

第一步，本题考查生物学知识。

第二步，运动病又称晕动病，是晕车、晕船、晕机等的总称。它是指乘坐交通工具时，人体内耳前庭平衡感受器受到过度运动刺激，前庭器官产生过量生物电，影响神经中枢而出现的出冷汗、恶心、呕吐、头晕等症状群。因此，本题正确。

【拓展】

内耳前庭器是人体平衡感受器官，它包括三对半规管和前庭的椭圆囊和球囊。半规管内有壶腹嵴，椭圆囊球囊内有耳石器（又称囊斑），它们都是前庭末梢感受器，可感受各种特定运动状态的刺激。

晕动病治疗：发病时患者宜闭目仰卧。坐位时头部紧靠在固定椅背或物体上，避免较大幅度的摇摆。通风要良好。同时可选用抗组胺和抗胆碱类药物：氢溴酸东莨菪；茶苯海拉明（晕海宁、乘晕宁）；盐酸倍他司汀（抗眩啉）；盐酸美克洛嗪（敏克静）；其他如甲氧氯普胺（胃复安）、氯丙嗪、地西泮（安定）等。

8.（对错题）人们常常说的“而立之年”指的是20岁。（ ）

A.正确

B.错误

【正确答案】：B

【解析】

第一步，本题考查文学知识。

第二步，《论语·为政》：“吾十有五而志于学，三十而立，四十而不惑，五十而知天命，六十而耳顺，七十而从心所欲，不逾矩。”孔子说：“我十五岁就立志学习，三十岁能够自立，四十岁遇到事情不再感到困惑，五十岁就知道哪些是不能为人为力支配的事情而乐知天命，六十岁时能听得进各种不同的意见，七十岁可以随心所欲（收放自如）却又不超出规矩。”

因此，本题错误。

【拓展】

年龄称谓

襁褓：未满周岁的婴儿

孩提：指2-3岁的儿童

垂髫：指幼年儿童（又叫“总角”）

豆蔻：指女子十三岁

及笄：指女子十五岁

弱冠：指男子二十岁（又“加冠”）

而立之年：指三十岁

不惑之年：指四十岁

知命之年：指五十岁（又“知天命”、“半百”）

花甲之年、耳顺之年：指六十岁

古稀之年：指七十岁

耄耋之年：指八、九十岁

期颐之年：一百岁

9.（对错题）我国的二十四节气中不包括端午。（ ）

A.正确

B.错误

【正确答案】：A

【解析】

第一步，本题考查传统民俗知识。

第二步，“二十四节气”是上古农耕文明的产物，农耕生产与大自然的节律息息相关，它是上古先民顺应农时，通过观察天体运行，认知一岁（年）中时令、气候、物候等方面变化规律所形成的知识体系。二十四节气包括：立春、雨水、惊蛰、春分、清明、谷雨、立夏、小满、芒种、夏至、小暑、大暑、立秋、处暑、白露、秋分、寒露、霜降、立冬、小雪、大雪、冬至、小寒、大寒。二十四节气不包括端午。

因此，本题正确。

【拓展】

端午节，本是南方吴越先民创立用于拜祭龙祖的节日。因传说战国时期的楚国诗人屈原在五月五日跳汨罗江自尽，

后来人们亦将端午节作为纪念屈原的节日；也有纪念伍子胥、曹娥及介子推等说法。总的来说，端午节起源于上古先民择“龙升天”吉日祭龙祖，注入夏季时令“祛病防疫”风尚，把端午视为“恶月恶日”起于北方中原，附会纪念屈原等历史人物纪念内容。端午风俗形成可以说是南北风俗融合的产物。端午节与春节、清明节、中秋节并称为中国四大传统节日。

10. (对错题) “WHO”代表的世界性组织是世界贸易组织。( )

A.正确

B.错误

【正确答案】： B

【解析】

第一步，本题考查经济名词知识。

第二步，WHO 世界卫生组织（英文名称：World Health Organization，简称世卫组织或世卫），是联合国属下的专门机构，国际最大的公共卫生组织，总部设于瑞士日内瓦，只有主权国家才能参加，是国际上最大的政府间卫生组织。世界贸易组织是 WTO，总部位于瑞士日内瓦。

因此，本题错误。

【拓展】

WTO 世界贸易组织（英语：World Trade Organization，简称世贸组织），1994 年 4 月 15 日，在摩洛哥的马拉喀什市举行的关贸总协定乌拉圭回合部长会议决定成立更具全球性的世界贸易组织，以取代 1947 年订立的关税及贸易总协定。世界贸易组织是当代最重要的国际经济组织之一，拥有 164 个成员国，成员贸易总额达到全球的 98%，有“经济联合国”之称。

11. (多选题) 在社会主义核心价值体系中，属于国家层面的价值目标包括：

A.富强

B.民主

C.文明

D.和谐

【正确答案】： ABCD

【解析】

第一步，本题考查社会主义核心价值体系知识。

第二步，党的十八大提出，倡导富强、民主、文明、和谐，倡导自由、平等、公正、法治，倡导爱国、敬业、诚信、友善，积极培育和践行社会主义核心价值观。富强、民主、文明、和谐是国家层面的价值目标；自由、平等、公正、法治是社会层面的价值取向；爱国、敬业、诚信、友善是公民个人层面的价值准则，这 24 个字是社会主义核心价值观的基本内容。

因此，选择 ABCD 选项。

【拓展】

社会主义核心价值观是社会主义核心价值体系的内核，体现社会主义核心价值体系的根本性质和基本特征，反映社会主义核心价值体系的丰富内涵和实践要求，是社会主义核心价值体系的高度凝练和集中表达。

12. (多选题) 我国已经成立的自由贸易试验区有：

A.中国（海南）自由贸易试验区

B.中国（广西）自由贸易试验区

C.中国（天津）自由贸易试验区

D.中国（河南）自由贸易试验区

【正确答案】： ABCD

【解析】

第一步，本题考查经济组织知识。

第二步，A 项：2018 年 10 月成立中国（海南）自由贸易试验区。2018 年 4 月 13 日，习近平在庆祝海南建省办经济特区 30 周年大会上郑重宣布，党中央决定支持海南全岛建设中国（海南）自由贸易试验区。2018 年 10 月 16 日，国务院发布《国务院关于同意设立中国（海南）自由贸易试验区的批复》，实施范围为海南岛全岛。A 项正确。

B 项：2019 年 8 月成立中国（广西）自由贸易试验区。2019 年 8 月 26 日，《国务院关于同意新设 6 个自由贸易试验区的批复》印发，同意设立中国（山东）自由贸易试验区、中国（江苏）自由贸易试验区、中国（广西）自由贸



易试验区、中国（河北）自由贸易试验区、中国（云南）自由贸易试验区、中国（黑龙江）自由贸易试验区。B项正确。

C项：2015年4月成立中国（天津）自由贸易试验区。2015年4月20日，《国务院关于印发中国（天津）自由贸易试验区总体方案的通知》同意建立中国（天津）自由贸易试验区。C项正确。

D项：2017年3月成立中国（河南）自由贸易试验区。2017年3月31日，《国务院关于印发中国（河南）自由贸易试验区总体方案的通知》同意建立中国（天津）自由贸易试验区。D项正确。

因此，选择ABCD选项。

#### 【拓展】

自由贸易试验区是指在贸易和投资等方面比世贸组织有关规定更加优惠的贸易安排，在主权国家或地区的关境以外，划出特定的区域，准许外国商品豁免关税自由进出。实质上是采取自由港政策的关税隔离区。2013年9月至2019年8月，中国已经分多批次批准了18个自贸试验区，已经初步形成了“1+3+7+1+6”的基本格局，形成了东西南北中协调、陆海统筹的开放态势，推动形成了我国新一轮全面开放格局。

13.（多选题）在长期的革命和建设过程中结成、由中国共产党领导的广泛的爱国统一战线包括：

- A.全体社会主义劳动者
- B.拥护社会主义的爱国者
- C.拥护祖国统一的爱国者
- D.一起热爱和平的人们

【正确答案】：ABC

#### 【解析】

第一步，本题考查中国特色社会主义理论体系知识。

第二步，2018年，第十三届全国人民代表大会第一次会议通过的《中华人民共和国宪法修正案》指出：“在长期的革命、建设、改革过程中，已经结成由中国共产党领导的，有各民主党派和各人民团体参加的，包括全体社会主义劳动者、社会主义事业的建设者、拥护社会主义的爱国者、拥护祖国统一和致力于中华民族伟大复兴的爱国者的广泛的爱国统一战线，这个统一战线将继续巩固和发展。”

因此，选择ABC选项。

#### 【拓展】

爱国统一战线具体包含两个范围的联盟：一个是大陆范围内，以爱国主义和社会主义为政治基础的团结全体劳动者、建设者和爱国者的联盟，这是统一战线的主体和基础；另一个是大陆范围以外的，以爱国和拥护祖国统一为政治基础的团结台湾同胞、港澳同胞和海外侨胞的联盟，这是统一战线的重要组成部分。

14.（多选题）下列具有行政主体资格的有：

- A.镇人民政府
- B.县工商局
- C.县安监局
- D.办理结婚登记

【正确答案】：ABC

#### 【解析】

第一步，本题考查行政主体知识。

第二步，行政主体是行政管理法律关系的一方当事人，是指能以自己名义行使国家行政职权，作出影响行政相对人权利义务的行政行为，并能对外承担行政法律责任，在行政诉讼中能作为被告应诉的行政机关或法律、法规授权的组织。镇人民政府、县工商局、县安监局都是以自己的名义行使行政职权并独立承担责任的组织。

因此，选择ABC选项。

#### 【拓展】

D项：办理婚姻登记的婚姻登记机关即各地的婚姻登记处，是同一级民政局的下属单位。属于民政局的内设机构，不具有行政主体资格。不符合题意，D项不当选。

具有行政主体资格的有中央机关与机构、地方机关与机构、以及非政府组织与个人三类。

一、中央机关与机构：

1.国务院；2.国务院组成部门，包括部委行署；3.国务院直属单位和特设机构；4.国务院组成部门管理的机构；5.授权的内设机构，有些内设机构经过法律法规特别授权而享有了一定的行政职权。常见的有专利评审委员会；商标评

审委员会是工商局的内设机构；公安部下属的公安消防局，公安交管局以及公安边防局是公安部的内设机构。6.授权的议事协调机构。

## 二、中央机关与机构，地方机关与机构

1.各级地方人民政府，包括县级到省级人民政府；2.县级以上政府各工作部门、直属机构、特设机构；3.各种派出机关，具有准政府的地位，包括省级人民政府派出的地区行政公署，县级人民政府派出的区公所及县级政府或市辖区人民政府派出的街道办事处；4.中央机关或机构依法设立的分支机构；5.授权的派出机构、内设机构，包括派出所，公安所，税务所；6.一定条件下的综合执法机构，根据行政处罚法规定和组建的综合执法机构。

## 三、非政府组织和个人

非政府组织经过授权可以成为行政主体，包括四类：1.授权的企业组织，如铁路运输企业，邮政企业，电信企业等公用事业企业；2.授权的事业单位；3.授权的社会团体，如行业协会；4.授权的村民委员会和居民委员会；以上四类组织可以根据授权获得行政主体资格，委托是不能取得主体资格的。

15. (多选题) 下列民事活动，行为人不可以委托他人代为实施的有：

A.订立买卖合同

B.订立遗嘱

C.演出

D.办理结婚登记

【正确答案】BCD

【解析】

第一步，本题考查民法知识并选错误项。

第二步，B项：根据《继承法》第十七条，公证遗嘱由遗嘱人经公证机关办理。自书遗嘱由遗嘱人亲笔书写，签名，注明年、月、日。代书遗嘱应当有两个以上见证人在场见证，由其中一人代书，注明年、月、日，并由代书人、其他见证人和遗嘱人签名。以录音形式立的遗嘱，应当有两个以上见证人在场见证。遗嘱人在危急情况下，可以立口头遗嘱。口头遗嘱应当有两个以上见证人在场见证。危急情况解除后，遗嘱人能够用书面或者录音形式立遗嘱的，所立的口头遗嘱无效。因此，行为人不可以委托他人代为订立遗嘱。符合题意，B项当选。

根据《民法总则》第一百六十一条，民事主体可以通过代理人实施民事法律行为。依照法律规定、当事人约定或者民事法律行为的性质，应当由本人亲自实施的民事法律行为，不得代理。演出和办理结婚登记均为由本人实施的民事法律行为，不可以委托他人代为实施。符合题意，C项和D项当选。

因此，选择BCD选项。

【拓展】

A项：根据《合同法》第九条，当事人订立合同，应当具有相应的民事权利能力和民事行为能力。当事人依法可以委托代理人订立合同。不符合题意，A项不当选。

16. (多选题) 以下属于我国人民检察院职权的有：

A.公诉权

B.审批权

C.侦查权

D.立法权

【正确答案】：AC

【解析】

第一步，本题考查刑法知识。

第二步，根据《刑事诉讼法》第三条第一款，对刑事案件的侦查、拘留、执行逮捕、预审，由公安机关负责。检察、批准逮捕、检察机关直接受理的案件的侦查、提起公诉，由人民检察院负责。审判由人民法院负责。除法律特别规定的以外，其他任何机关、团体和个人都无权行使这些权力。

因此，选择AC选项。

【拓展】

B项：行政审批权：行政审批是指行政机关（包括有行政审批权的其他组织）根据自然人、法人或者其他组织提出的申请，经过依法审查，采取“批准”、“同意”、“年检”发放证照等方式，准予其从事特定活动、认可其资格资质、确认特定民事关系或者特定民事权利能力和行为能力的行为。不符合题意，B项不当选。

D项：立法权，国家制定、修改和废止法律的权力。分为两类：第一类是制定和修改宪法的权力；第二类是制定和



修改普通法律的权力。一方面，立法机关自己制定法律，另一方面，立法机关授权行政机关制定法规、条例、决议和命令等，它们都具有法律规范的性质。中国的立法机关是全国人民代表大会及其常务委员会。国务院可以制定行政法规，省、自治区、直辖市的人民代表大会及其常务委员会可以制定地方性法规，民族自治地方的人民代表大会可以制订自治法规等。不符合题意，D项不当选。

17. (多选题) 冬眠也叫“冬蛰”是某些动物对冬季外界不良环境条件的一种适应。下列关于动物冬眠的描述，不正确的是：

- A. 动物冬眠时体内的能量消耗停滞
- B. 动物冬眠过程中，其体重基本不会发生变化
- C. 哺乳类动物没有冬眠的习性
- D. 冬眠的动物可控制自己的体温

【正确答案】：ABC

【解析】

第一步，本题考查生物知识并选错误项。

第二步，动物在冬眠期间，呼吸次数减少，体温下降，血液循环减慢，新陈代谢非常微弱，消耗的营养物质相对减少，但仍然消耗热量。动物皮下脂肪，一方面可以保持体温，更重要的是供给冬眠时体内的消耗。一般动物在冬眠前的体重，都比平时增加1-2倍，冬眠之后，体重就逐渐减轻。冬眠期间动物体内体温随着环境条件改变，但能进行微弱的新陈代谢，产生一定的能量，以维持生命活动。A项和B项表述错误，符合题意当选，D项表述正确不当选。

一些小型哺乳动物也有冬眠习性。如鼠类、蝙蝠、獾类、貂类、刺猯等。大型哺乳动物中仅有熊冬眠。C项表述错误，符合题意当选。

因此，选择ABC选项。

【拓展】

最新研究称人类或具备动物一样的冬眠能力。有记录表明人类能够进入到冬眠一样的状态。2006年10月打越三敬在失踪24天后被救援人发现。发现他的时候，医生确定他的新陈代谢几乎处于停滞状态。类似的故事还包括一名掉入冰水中的挪威滑雪者，从没有心跳、呼吸而且体温只有13.8度的状态醒过来。在前往医院的路上诱导事故受害者进入冬眠状态能够减少大出血和细胞衰弱，为外科医生争取更多的时间。

18. (多选题) 以下能源属于绿色能源的有：

- A. 石油
- B. 风能
- C. 煤炭
- D. 太阳能

【正确答案】：BD

【解析】

第一步，本题考查绿色能源知识。

第二步，绿色能源也称清洁能源，是环境保护和良好生态系统的象征和代名词，它可分为狭义和广义两种概念。狭义绿色能源是指可再生能源，如水能、生物能、太阳能、风能、地热能和海洋能。这些能源消耗之后可以恢复补充，很少产生污染。广义的绿色能源则包括在能源的生产、及其消费过程中，选用对生态环境低污染或无污染的能源，如天然气、清洁煤和核能等。

因此，选择BD选项。

【拓展】

A项和C项：化石燃料也称矿石燃料，是一种烃或烃的衍生物的混合物，其包括的天然资源为煤炭、石油和天然气等，是由死去的有机物和植物在地下分解而形成的，是不可再生资源。化石燃料时产生的污染物对环境的影响主要有两个方面。一是全球气候变化。燃料中的碳转变为二氧化碳进入大气，使大气中二氧化碳的浓度上升，从而导致温室效应加剧，改变了全球的气候，生态平衡失衡。二是热污染。火电站发电所剩“余热”被排出到河流、湖泊、大气或海洋中，在多数情况下会引起热污染。不符合题意，A项和C项不当选。

19. (多选题) 下列属于我国古代四大发明的有：

- A. 造纸术
- B. 印刷术

C.纺织术

D.针灸术

【正确答案】：AB

【解析】

第一步，本题考查四大发明知识。

第二步，四大发明是关于中国科学技术史的一种观点，是指中国古代对世界具有很大影响的四种发明，是古代汉族劳动人民的重要创造，一般是指造纸术、指南针、火药及胶泥活字印刷术。

因此，选择AB选项。

【拓展】

C项：纺织术：中国纺织技术起源于五千年前新石器时期的纺轮和腰机。西周时期具有传统性能的简单缫车、纺车、织机相继出现，汉代广泛使用提花机、斜织机，唐代以后中国纺织机日趋完善，大大促进了纺织业的发展。不符合题意，C项不当选。

D项：针灸术：是针刺术和灸灼术的合称。针灸的针，是从原始时代的砭石发展来的。《左传》、《山海经》、《管子》、《战国策》、《韩非子》、《史记》等古代典籍里都有使用砭石治疾病的记载。建国以来的考古发现也证实了这些记载的可靠性。50年代，从河南郑州商代遗址中出土一枚小剑形的玉质砭石，是3000多年前商代人的遗物。70年代，从河南新郑县的郑韩故城遗址中出土一枚砭石。这枚砭石一端呈卵圆形，另一端呈三棱椎形，既可用于按摩，又可用于刺血，很象《内经》中所说的圆针和锋针。不符合题意，D项不当选。

20. (多选题) “连中三元”是指连获三项科举考试的第一名，这三项科举考试分别是：

A.院试

B.乡试

C.会试

D.殿试

【正确答案】：BCD

【解析】

第一步，本题考查科举制知识。

第二步，院试是为了取得参加正式科举考试的资格先要参加的一种考试，也叫童试。各地考生在县或府里参加考试，由省里的提督学政主持，考取者称生员，俗称秀才（茂才）或相公。

三元：科举制度称乡试、会试、殿试的第一名为解元、会元、状元，合称“三元”。接连在乡试、会试、殿试中考中了第一名，称“连中三元”。

因此，选择BCD选项。

【拓展】

院试是清代由各省学政主持的考试。因学政又称提督学院，故名。清初沿明制，各省提学官称提学道，亦沿称“道试”。凡经府试录取的童生均可参加，其报名、填写履历、廪生作保等手续与府试、县试略同。学政于驻在地考试就近各府应试童生，其余各府则依次分期亲临考场主持。考试分正试、复试二场。试八股文与试帖诗，并默写《圣谕广训》百数十字。揭晓名为出案，录取者为生员（俗称“秀才”），札发入府、县学学习称“入学”，也叫“入泮”，受教官的月课与考校。此为童生试的最高阶段考试。

21. (单选题) 中国致力于建设创新型国家，制定了中长期科学和技术发展\_\_\_\_\_，提出了未来科技发展的目标和任务。

填入划横线部分最恰当的一项是：

A.规划

B.规定

C.规格

D.规范

【正确答案】：A

【解析】

第一步，分析语境。根据文意，由“中长期的”可知，制定的应该是长时间的计划。

第二步，辨析选项。A项“规划”指进行比较全面的长远的发展计划，符合文意。B项“规定”意思为对某一事物作出关于方式、方法或数量、质量的决定；所规定的内容。C项“规格”意思为产品质量的标准；泛指规定的要求或条件。D

项“规范”指按照既定标准、规范的要求进行操作，使某一行为或活动达到或超越规定的标准。三者均不能体现出“中长期”，不符合语境，所以排除 B 项、C 项和 D 项。

因此，选择 A 选项。

22. (单选题) 随着时代的发展，计算机技术更\_\_\_\_\_地应用于机关和各种商务办公。

填入划横线部分最恰当的一项是：

- A.广泛
- B.深入
- C.普及
- D.全面

【正确答案】：A

【解析】

第一步，分析语境。根据“应用于机关和各种商务办公”可知，文段应体现出计算机技术应用范围的广而大。

第二步，辨析选项。A 项“广泛”指涉及的方面广，范围大，符合文意。B 项“深入”指深刻、透彻；C 项“普及”指普遍地传到，为动词，而“应用于”已是动词，词性重复；D 项“全面”与“片面”相对，强调整整周密、兼顾各方面。三项均不能体现“范围大、广”之意，不符合文意，排除 B 项、C 项和 D 项。

因此，选择 A 选项。

23. (单选题) 作为社会公德传媒，理当\_\_\_\_\_健康，良性的人生观和价值观。

填入划横线部分最恰当的一项是：

- A.提倡
- B.宣扬
- C.倡导
- D.宣传

【正确答案】：C

【解析】

第一空，分析语境。根据文意，作为社会公德传媒，应该起模范带头作用，去做一些积极事情。

第二步，辨析选项。A 项“提倡”意思是提议，鼓励某种行为和事物，侧重在口头上。不符合要求，排除 A 项。B 项“宣扬”指的是广泛宣传，让大家都知道，侧重在让大家知道，不强调执行，排除 B 项。C 项“倡导”强调带头提倡，引导和指导某种行为和事物，更侧重在行为上，符合文段语意要求。D 项“宣传”指向人讲解说明，进行教育宣传，也是侧重在口头上，排除 D 项。

因此，选择 C 选项。

24. (单选题) 当地村民朴实的性格给他们留下了\_\_\_\_\_的印象。

填入划横线部分最恰当的一项是：

- A.明确
- B.深刻
- C.永恒
- D.突出

【正确答案】：B

【解析】

第一空，分析语境。根据文意，应该是当地村民朴实的性格给他们留下的印象比较深，记得比较清楚。

第二空，辨析选项。A 项“明确”指清晰明白而确定不移，“印象明确”不搭配，排除 A 项。B 项“深刻”达到事情或问题的本质的或内心感受程度很大的，强调透彻、深入，另外，“印象深刻”属于固定搭配，符合文意。C 项“永恒”程度过重，排除 C 项。D 项“突出印象”也是搭配不当，排除 D 项。

因此，选择 B 选项。

25. (单选题) 来自人民、根植人民、造福人民。是我们党先进性和纯洁性的集中\_\_\_\_\_，也是我们党永远立于不败之地的根本。

填入划横线部分最恰当的一项是：

- A.体现
- B.展现

C.展示

D.呈现

【正确答案】：A

【解析】

第一步，分析语境。“来自人民、根植人民”是我党根本性质的具体表现。

第二步，辨析选项。A项“体现”指某种性质或现象通过某一事物具体表现出来，符合文意。B项“展现”侧重显现出；C项“展示”侧重清楚地摆出来让人看；D项“呈现”侧重显露、出现。三者均表示具体的事物在眼前显现出来，不需要借助某一事物来表现，而文段强调“党先进性和纯洁性通过来自人民、根植人民、造福人民具体表现出来”，三项均不符合文意，排除B项、C项和D项。

因此，选择A选项。

【考点】

言语理解与表达

逻辑填空

实词辨析

【来源】

2015年广东省事业单位统招综合类真题《职业能力测试》第25题

26. (单选题) 领导干部应当深入群众、和群众打成一片，真正\_\_\_\_\_民情。

填入划横线部分最恰当的一项是：

A.体察

B.体恤

C.体贴

D.体谅

【正确答案】：A

【解析】

第一步，分析语境。“领导干部应该深入群众，和群众打成一片”说明领导干部是真的关心老百姓的疾苦，深入体会老百姓的生活，了解民情。空格处应当体现深入了解群众疾苦的意思。

第二步，辨析选项。A项“体察”有体验和观察的意思且“体察民情”是固定搭配，符合文意。B项“体恤”指替他人实际处境着想而怜悯、帮助，多用于尊长对低下者。如体恤下属。C项“体贴”指细心体会、领悟；关怀、体谅。设身处地为他人着想，使对方感到舒适满意。D项“体谅”指设身处地为他人着想，也就是要善解人意。三者均无观察和了解的意思，因此排除B项、C项和D项。

因此，选择A选项。

27. (单选题) 鼓励引导社会力量办医是\_\_\_\_\_，要想使公众真正获得更好的医疗服务必须要引入竞争机制。

填入划横线部分最恰当的一项是：

A.大势所趋

B.刻不容缓

C.未雨绸缪

D.长久之计

【正确答案】：A

【解析】

第一步，分析语境。根据“必须要引入竞争机制”可知，作者对“鼓励引导社会力量办医”持肯定态度。

第二步，辨析选项。A项“大势所趋”指整个局势发展的趋向，能够体现出“鼓励引导社会力量办医”是未来的发展方向，符合文意。B项“刻不容缓”形容形势紧迫，必须立即行动，文段并未体现“紧迫”；C项“未雨绸缪”比喻事先做好准备；D项“长久之计”指长远的打算，多用于否定句中，文段为陈述句，且未体现“长远”。三者均不符合文意，排除B项、C项和D项。

因此，选择A选项。

28. (单选题) 古人讲：“有高山者必有深谷，有奇才者必有怪癖。”那些杰出人才常常特立独行，具有\_\_\_\_\_的个性，\_\_\_\_\_的独立意识和反叛精神。

填入划横线部分最恰当的一项是：



- A.明显 强烈
- B.明显 突出
- C.鲜明 强烈
- D.鲜明 突出

【正确答案】：C

【解析】

第一步，分析第一空。根据语境，根据文意，文段先援引古人的话想强调奇才定有怪癖，接着讲杰出人才特立独行，个性很强，很有自己特点，C项和D项“鲜明”指分明而确定，一点也不含糊。A项和B项“明显”指清楚地显露出来，容易让人看出或感觉到。文中修饰个性使用“鲜明”更符合，另外，“个性鲜明”属惯常搭配，因此排除A项和B项。

第二步，分析第二空。根据语境，应反映特立独行并与“鲜明”意思相近，程度相近，强调十分突出。C项“强烈”指鲜明的，是建立在自己意愿的基础上表现出很强的对比性。如强烈的对比，能够与前面的词语构成并列关系。D项“突出”指隆起，突然出现，出众地显露出来，语境强调意识和精神非常的明显而不是突然显露，排除D项。

因此，选择C选项。

29. (单选题) 我国城镇化和工业化的逐步\_\_\_\_，改变了农村社会经济结构，\_\_\_\_农村家庭结构的变化和劳动的转移流动，传统的家庭养老模式受到一系列\_\_\_\_\_。

填入划横线部分最恰当的一项是：

- A.推进 促进 冲击
- B.推行 促成 考验
- C.推进 促进 挑战
- D.推行 促成 打击

【正确答案】：A

【解析】

第一步，分析第一空。根据语境，“改变了农村社会经济结构”，强调的是我国城镇化和工业化与之前有很大的进步，A项和C项“推进”侧重的是结果，相比之前有进步，符合文意。B项和D项“推行”意思是执行某种事情，推广施行（经验、办法等），无进步之意。因此排除B和D项。

第二步，分析第三空。根据语境“一系列”的提示，表示横线处要体现农村家庭结构的变化和劳动的转移流动会对“传统家庭模式”产生较大的影响。A项“冲击”指的是强大的水流或其他力量的迅猛撞击，填入空中表示产生较大的影响，符合语境。C项“挑战”指激使敌方出战或主动尝试战胜对方，明显程度较轻，不符合文意，排除C项。

因此，选择A选项。

30. (单选题) \_\_\_\_\_民众的自主权，\_\_\_\_\_民众的创造力，\_\_\_\_\_民众的幸福感，是中国高速发展带来的启示、也是新时期政府科学施政的常识。

填入划横线部分最恰当的一项是：

- A.重视 发挥 提高
- B.重视 解放 提升
- C.尊重 解放 提升
- D.尊重 发挥 提高

【正确答案】：C

【解析】

第一步，分析第一空。根据文意，该空与“自主权”搭配。C项和D项“尊重”指尊敬，重视并严肃对待，符合文意。A项和B项“重视”指认为人的德才优良或事物的作用重要而认真对待，如重视学习，重视人才培养等，不与“权利”搭配，因此排除A项和B项。

第二步，分析第二空。C项“解放”指解除束缚，得到自由或发展，比如“解放思想”。D项“发挥”指把内在的性质或能力表现出来，比如“发挥积极性和创造性”“发挥想象力”等。均可以搭配创造力，无法排除。

第三步，分析第三空。搭配对象是“幸福感”。D项“提高”一般适用形容技术、品质等表面可以被人事物直接感受到的变化，侧重质量及数量方面，不符合文意，排除D项。C项“提升”指使位置、程度、水平、数量、质量等方面比原来高，侧重精神层面，且“提升幸福感”属于常用搭配，符合文意。

因此，选择C选项。

31. (单选题) 关注民生，已经成为当下各级政府的关注重点，也是广大百姓的热切期待。对于改善民生的问题，



一位领导说：“改善民生并不是吃红烧肉，穿漂亮衣服就够了，健康的精神生活也很重要”。

这位领导的话主要强调：

- A.改善民生是政府的工作重点
- B.改善民生是百姓的期待
- C.改善民生应兼顾群众的物质生活和精神生活
- D.改善民生应首先提高群众的物质生活水平

【正确答案】：C

【解析】

第一步，分析文段。文段首先讲关注民生受到了各级政府和百姓的极大关注，最后援引领导观点说明改善民生的内容，即“改善民生并不是吃红烧肉，穿漂亮衣服就够了，健康的精神生活也很重要”。其中，“并不是吃红烧肉，穿漂亮衣服就够了”意思是物质生活的需要，“健康的精神生活也很重要”说明精神生活的重要性，前后用“也”连接，意为改善民生中物质生活和精神生活都要注重，两者需要兼顾。

第二步，对比选项。C项是对领导讲话的同义替换。

因此，选择C选项。

【拓展】

A项：偷换概念，文段讲“关注民生”是政府的关注重点，而非改善民生。B项：偷换概念，文段讲“关注民生”是百姓的期待，而非改善民生。D项：表述片面，只提到物质生活，缺少精神生活。

32. (单选题) 家庭矛盾中有些是较大的带有原则性的矛盾，但更多的是一些鸡毛蒜皮的难以分清谁是谁非的小矛盾，恰当地运用一些处理家庭矛盾的艺术，不仅能缓解这些矛盾，而且会促进家庭成员文明水准的提高。

对这段话的正确理解是：

- A.恰当处理家庭矛盾需要有耐心
- B.家庭矛盾很难分清谁是谁非
- C.大的带有原则性的家庭矛盾只能缓解
- D.巧妙解决家庭矛盾有助于使家庭成员更文明

【正确答案】：D

【解析】

第一步，分析文段。文段首先提出家庭矛盾中更多的是小矛盾，接下来提出要巧妙解决家庭矛盾，最后通过递进关联词“不仅……而且……”强调恰当运用处理家庭矛盾艺术的积极意义。因此文段后半部分为主旨句，强调的是恰当地运用一些家庭矛盾的艺术会促使家庭成员文明水准的提高。

第二步，对比选项。D项是对主旨句的同义替换。

因此，选择D选项。

【拓展】

A项：“要有耐心”属于无中生有。B项：属于问题的阐述，文段重点在措施，非重点。C项：无中生有，文段只是讲小矛盾的处理方法，未提及矛盾的处理。

33. (单选题) 能否树立正确的“休息观”，其实是一个领导者是否具有群众观点。是否关系群众生活、是否坚持以人为本的具体体现，“以人为本”不是一句漂亮的口号，需要体现在现实生活的各个环节，在保障员工休息权、休假权这件事上，最能体现以人为本的精神。

这段文字主要谈论的是：

- A.以人为本就是要保障员工的休息权和休假权
- B.休息权、休假权的保障是领导关心群众生活的体现
- C.休息权是保障人们完成工作、干好事业的基础
- D.领导者对群众的关心主要体现在保障员工的休息权上

【正确答案】：B

【解析】

第一步，分析文段。文段首先讲树立正确的“休息观”，是领导者有群众观点、坚持以人为本的表现，最后通过“需要”引出主旨句，也就是以人为本地体现在保障员工休息权、休假权这件事上，而“休息观”指的是休息权、休假权，换句话说，领导关心群众生活的体现是休息权、休假权的保障。

第二步，对比选项。B项是对主旨句的同义替换。

因此，选择 B 选项。

【拓展】

A 项：绝对化表述，直接将以人为本等同于要保障员工的休息权和休假权，明显二者是不同概念。C 项：无中生有，文段没讲“完成工作、干好事业的基础”。D 项：表述片面，只提到休息权上，还有休假权。

34. (单选题) 网络电视能否提供让网民流畅观看视频的足够带宽，以及超大的服务器，是中国网络电视发展的关键问题。中国网络电视台开播后，由于收看视频节目的用户多而导致服务器不堪重负，一度处于半瘫痪状态，用于收看电视台的软件根本无法打开，只能以网页形式观看视频。随着下一代互联网的建设，这个问题将在未来五到十年内解决。

这段文字主要内容是：

- A. 网民无法看到流畅的视频
- B. 网络电视只能以网页形式观看视频
- C. 网络电视发展面临的技术层面问题
- D. 流畅观看网络视频有望十年内实现

【正确答案】： C

【解析】

第一步，分析文段。文段首先讲中国网络电视发展的关键问题是“流畅观看视频的足够带宽”和“超大服务器”，即技术层面问题。后面提到目前的网络电视存在的主要问题，及未来 10 年内可以解决，是对第一句中的“关键问题”进行解释，其实还是为了说明目前的技术问题。文段主要的话题为“网络电视”和“技术问题”。文段为“总—分”结构，主旨句为首句。

第二步，对比选项。C 项是对主旨句的同义替换。

因此，选择 C 选项。

【拓展】

A 项：表述绝对化，文段说“提供让网民流畅观看视频的足够带宽”，并不代表目前网民无法看到流畅的视频。B 项：属于分句中内容，解释说明目前的技术问题，非重点。D 项：文段表述比较肯定，“这个问题将在未来五到十年内解决”，而选项讲“有望”即有可能，排除。

35. (单选题) 我们要提醒自己不要向生活提太多的要求，因为如果这样做，我们幸福所依靠的基础变得太广大了，依靠如此广大的基础才可以建立起来的幸福是很容易破碎，因为遭遇变故的机会增多了，而变故无时不在发生。

以下最支持上一段文字的一项是：

- A. 因此，我们在生活中的各种关系应该尽可能的简单，减少各种意外对我们的伤害
- B. 因此，避免重大祸害的有效途径就是考虑到我们的能力、条件，尽可能的降低我们对生活的要求
- C. 因此，这样的情形经常都会发生；我们埋头做事，到了目标实现的时候，我们对生活又有了新的要求
- D. 因此，我们在生活中应该谨慎小心，未雨绸缪，尽量减少各种变故带来的伤害

【正确答案】： B

【解析】

第一步，分析文段。文段首先提出观点“不要向生活提太多的要求”，接下来谈提要求太多所产生的消极结果，来证明首句观点的合理性。文段属于“总—分”结构，强调“不要向生活提太多的要求”。根据提问方式中所问的最支持上段文字的，所以需要选择跟原文主旨思想观点相近或一致的选项。

第二步，对比选项。观察选项发现，B 项“降低要求”最符合原文“不要向生活提太多的要求”的意思。

因此，选择 B 选项。

【拓展】

A 项和 D 项：没有谈到“不要向生活提太多的要求”的观点，偏离话题。C 项：文段讲“不要向生活提太多的要求”而非“对生活有了新的要求”，偏离话题。

36. (单选题) 亚洲的困境在于——破坏环境的力量正在创造经济奇迹的动力。经济增长意味着更多的产量、更多工作、更多餐桌上的食物，但是也意味着更多的烟雾被排放，更多的树木被砍伐，更多的化学物质被倒入河流。

这段文字主要想表达的是：

- A. 亚洲的经济发展与环境问题存在冲突
- B. 环境问题制约着亚洲经济的长期发展
- C. 绿色产业将成为亚洲经济发展的新动力

D.亚洲的经济发展以资源的过度消耗为代价

【正确答案】：A

【解析】

第一步，分析文段。文段首先提出观点“亚洲的困境在于破坏环境的力量正是创造经济奇迹的动力”，后面解释了怎么造成的这种困境。文段结构为“总—分”结构，首句是主旨句，强调了亚洲创造经济奇迹的同时破坏了环境。

第二步，对比选项。A项是对文段主旨句的同义替换。

因此，选择A选项。

【拓展】

B项：“制约”在文段未涉及，无中生有。C项：“绿色产业”文段未体现，无中生有。D项：“经济发展以资源的过度消耗为代价”只是其中一方面，说法片面，经济增长也会带来更多产量、工作等。

37. (单选题) 当人们谈到精神分裂症患者时，通常的反应仍是感到恐惧、不可思议和排斥、歧视，生活在真实社会、普通生活中的正常人是很难理解精神病患者的那些怪异行为和举止的。可是在我们的社会中，精神病人却是越来越多了，他们不仅需要得到医生和心理工作者的关注，还需要得到大众的认可和支持。

这段话意在强调：

A.人们不应该歧视精神病患者

B.精神病人更需要大众的认可和支持

C.正常人无法理解精神病人

D.精神病人应该得到医生和心理工作者的关注

【正确答案】：B

【解析】

第一步，分析文段。文段首先指出人们不能理解“精神分裂症患者”，对他们是恐惧、排斥、歧视的，接着通过转折词“可是”强调：精神病人越来越多，他们不仅需要得到医生和心理工作者的关注，还需要得到大众的认可和支持。

递进之后是重点，文段旨在强调精神病人更需要大众的认可和支持。

第二步，对比选项。B项是对文段主旨的同义替换，符合文段意图。

因此，选择B选项。

【拓展】

A项：仅提到“不应该歧视”，未提及“认可和支持”，不如B项表述明确。C项：对应转折之前的内容，非重点。D项：仅对应递进之前的内容，非文段主旨。

试《通用能力测试》真题第38题

38. (单选题) 尽管，严格按照科学的思维方式进行行政决策可以减少失误，达到精确，但是，决策毕竟是人的行动，人并不是像机器那样按照规律运行、按照规律生产产品。

这段文字意在告诉我们：

A.行政决策过程中人的主观因素是不可忽视的

B.人的主观性常常是造成决策失误的主要原因

C.作为行政决策的主体，人需要规范自己的行为

D.科学的思维方式是实现行政决策科学化的前提

【正确答案】：A

【解析】

第一步，分析文段。文段先提出了“科学思维可以减少决策失误”，然后通过转折“但是”引出“决策是人的行动，人并不是像机器那样按照规律运行、按照规律生产产品”。文段重点在转折之后，强调人不可能像机器那样完全按照规律运行，即在行政决策过程中，人是存在主观性的，这种主观因素是不能忽视的。

第二步，对比选项。A项是文段重点的同义替换，符合文段意图。

因此，选择A选项。

【拓展】

B项和C项：“主要原因”“规范自己的行为”文中没有提及，无中生有。D项：“科学的思维方式”是转折之前的内容，非重点，且文段看不出它是“实现行政决策科学化的前提”。

39. (单选题) 外汇储备的基本功能主要有两个：一是用于进口国内所需的物资，二是用于偿还政府和私人部门所带的外债。一个国家必须有一定的外汇储备，以应对国际支付上可能出现的短期流动性困难。除此之外，外汇储备

还具有调节外汇市场、稳定金融秩序，增强国家信誉等功能。

这段话主要介绍了：

- A. 外汇储备的意义
- B. 外汇储备的【来源】
- C. 外汇储备的风险
- D. 外汇储备的功能

【正确答案】：D

【解析】

第一步，分析文段。文段首先分别介绍外汇储备的两个基本功能，最后又通过“除此之外”提到了外汇储备的其他功能，可知，文段属于并列结构，重点在谈外汇储备的功能。

第二步，对比选项。四个选项中只有D项在强调功能。

因此，选择D选项。

【拓展】

A项、B项和C项：均属于非重点内容。

40. (单选题) 企业经营必须要有自己的道德底线，如果仅仅追逐经济利益的话，就会给社会带来很大的危害，最终自己也面临灭顶之灾。

这句话主要说明了：

- A. 企业经营以盈利为目的
- B. 企业经营必须讲道德
- C. 企业经营不好会危害社会
- D. 企业破产都是因为不讲道德

【正确答案】：B

【解析】

第一步，分析文段。文段首先提出核心观点“企业经营必须要有自己的道德底线”，接下来通过反面论证来论证第一个分句的观点。因此文段属于“总—分”结构，主旨句是文段开头提出的观点。

第二步，对比选项。B项是对主旨句的同义替换。

因此，选择B选项。

【拓展】

A项：“营利目的”偏离文段重点，文段重点谈“道德”而非“盈利”的话题。C项：“经营不好”无中生有，文段并未谈及该话题。D项：表述过于绝对化，不讲道德是企业破产的原因之一，并非全部原因。

41. (单选题) 13, 4, 17, 21, ( )

- A. 35
- B. 36
- C. 37
- D. 38

【正确答案】：D

【解析】

第一步，本题考查递推数列。

第二步，观察数列发现  $13 + 4 = 17$ 、 $4 + 17 = 21$ ，规律为第三项 = 第一项 + 第二项，所求项为  $17 + 21 = 38$ 。

因此，选择D选项。

42. (单选题) 2819, 7264, 4639, 8175, ( )

- A. 6359
- B. 7368
- C. 8371
- D. 9282

【正确答案】：B

【解析】

第一步，本题考查特殊数列中的组合拆分类。



第二步，观察发现，数据位数一致且变化无规律，考虑组合拆分。将每一个数字从中间拆分成两部分并且内部做差如下图所示：

原数列	28 19	72 64	46 39	81 75	(73 68)
前后做差	9	8	7	6	(5)

作差后的数列：9, 8, 7, 6, (5)，是公差为 -1 的等差数列，下一项为 5。

第三步，依次验证选项，发现只有 B 项中  $73 - 68 = 5$  符合题意。

因此，选择 B 选项。

43. (单选题) 0, 5, 8, 17, 24, ( )

- A.29
- B.31
- C.35
- D.37

【正确答案】：D

【解析】

解法一：

第一步，观察数列，每项数据皆在幂次数附近波动，考虑幂次修正数列。

第二步，幂次化指数形式如下：

	0	5	8	17	24	(37)
幂次数	$1^2$	$2^2$	$3^2$	$4^2$	$5^2$	$6^2$
修正项	-1	+1	-1	+1	-1	(+1)

底数数列是公差为 1 的等差数列，则所求项底数为  $5 + 1 = 6$ ，指数数列是 2 的常数数列，修正数列是以 (-1, +1) 为周期的周期数列，下一项为 +1，则所求项为  $6^2 + 1 = 37$ 。

因此，选择 D 选项。

解法二：

第一步：数列变化趋势平缓，考虑隔项做差。

第二步，做差如图所示：

	0	5	8	17	24	(37)
隔项做差			8	12	16	(20)

做差数列是公差为 4 的等差数列，下一项为  $16 + 4 = 20$ ，则所求项为  $17 + 20 = 37$ 。

因此，选择 D 选项。

44. (单选题) -1, 1, 5, 11, ( )

- A.15
- B.17
- C.19
- D.21

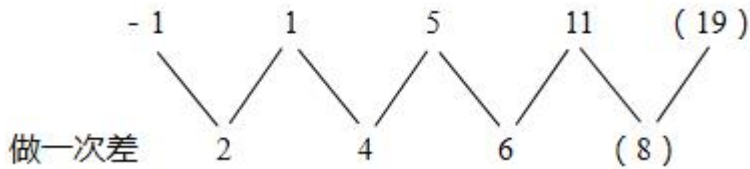
【正确答案】：C

【解析】



第一步，数列变化趋势平缓，考虑作差。

第二步，做差如图所示：



第三步，差数列是一个公差为 2 的等差数列，下一项为  $6 + 2 = 8$ ，则所求项为  $11 + 8 = 19$ 。

因此，选择 C 选项。

-7	-1	5
4	11	18
15	?	31

45. (单选题)

- A.23
- B.22
- C.21
- D.20

【正确答案】：A

【解析】

第一步，本题考查数图推理。

第二步，纵向观察数列发现  $15 = 4 \times 2 - (-7)$ ， $31 = 18 \times 2 - 5$ ，规律为：最后一行数字 = 第二行数字  $\times 2$  - 第一行数字，所求项为  $11 \times 2 - (-1) = 23$ 。

因此，选择 A 选项。

46. (单选题) 某公园在一条路的两侧植树，每隔 10 米种 1 棵。这条路总长 100 米，则最多可种树 ( ) 棵。

- A.12
- B.14
- C.18
- D.22

【正确答案】：D

【解析】

第一步，本题考查植树问题。

第二步，根据单侧线性植树公式：棵数 = 总长  $\div$  间隔 + 1，代入数据可得两侧种树的数量为  $(100 \div 10 + 1) \times 2 = 22$  (棵)。

因此，选择 D 选项。

47. (单选题) 某食品厂去年第二季度的生产效率比第一季度高 10%，第 3 季度的生产效率比第 2 季度又高 10%，则第三季度的生产效率比第一季度高：

- A.21%
- B.25%
- C.20%
- D.15%

【正确答案】：A

【解析】

解法一：

第一步，本题考查基础计算问题，用赋值法解题。

第二步，赋值第一季度的生产效率为 100，这三个季度的数据如下表：

第一季度	第二季度	第三季度
100	$100 \times (1+10\%) = 110$	$110 \times (1+10\%) = 121$

第三步，第三季度比第一季度高  $\frac{121-100}{100} = 21\%$ 。

因此，选择 A 选项。

解法二：

第一步，本题考查基础计算问题，用公式法解题。

第二步，根据题干，已知第二期相对于第一期的增长率为 10%，第三期相对于第二期的增长率为 10%，可结合间隔

增长率的公式“ $R = r_1 + r_2 + r_1 \times r_2$ ”计算，所以，第三季度比第一季度增长了  $10\% + 10\% + 10\% \times 10\% = 21\%$ 。

因此，选择 A 选项。

48. (单选题) 某公司买了一批苹果，若每人分 6 筐，则余 5 筐；若每人分 7 筐，则少 8 筐。该公司共有 ( ) 人。

A.15 人

B.13 人

C.11 人

D.9 人

【正确答案】：B

【解析】

第一步，本题考查基础应用题，用方程法解题。

第二步，设公司共有  $x$  人，根据苹果总数不变可得： $6x + 5 = 7x - 8$ ，解得  $x = 13$  (人)。

因此，选择 B 选项。

【拓展】

鸡兔同笼思想：多的 5 筐和少的 8 筐之和即为人数。

49. (单选题) 某电子制造厂有 45 名工人，其中模具工人 15 名，质检员 9 名。全厂工人中有 3 人既是模具工人，也是质检员。该厂既不是模具工人也不是质检员的有 ( )。

A.18

B.21

C.24

D.27

【正确答案】：C

【解析】

第一步，本题考查容斥问题，属于二集合容斥类，用公式法解题。

第二步，设“既不是模具工人也不是质检员的”有  $x$  人，根据二集合容斥原理的公式可得， $15 + 9 - 3 = 45 - x$ ，解得  $x = 24$  人。

因此，选择 C 选项。

50. (单选题) 有若干名教师对一篇论文进行评分。如果去掉最高分 99.1，平均分为 94.32；如果去掉最低分 86.2，平均分为 96.47，则参加评分的教师人数为：

A.4

B.5

C.6

D.7

【正确答案】：D

【解析】

第一步，本题考查基础应用题，用方程法解题。

第二步，设一共有  $x$  名教师。根据所有人总分数不变，可列方程式： $99.1 + 94.32 \times (x - 1) = 86.2 + 96.47 \times (x - 1)$ ，解得  $x = 7$ 。

因此，选择 D 选项。

51. (单选题) 有四个数，其中每三个数的和分别是 45, 46, 49, 52，那么这四个数中的最小一个数是：

- A.12
- B.18
- C.36
- D.45

【正确答案】：A

【解析】

解法一：

第一步，本题考查基础应用题，用方程法解题。

第二步，设四个数分别为  $a$ 、 $b$ 、 $c$ 、 $d$ 。由每三个数的和分别是 45, 46, 49, 52，可得  $a + b + c = 45$ ， $b + c + d = 46$ ， $a + b + d = 49$ ， $a + c + d = 52$ 。四个式子加和除以 3 可得整体： $a + b + c + d = 64$ 。

第三步，最小的一个数为  $64 - 52 = 12$ 。

因此，选择 A 选项。

解法二：

第一步，本题考查基础应用题，用方程法解题。

第二步，设四个数总和为  $x$ ，则四个数分别为  $(x - 45)$ ， $(x - 46)$ ， $(x - 49)$ ， $(x - 52)$ 。可得方程式： $(x - 45) + (x - 46) + (x - 49) + (x - 52) = x$ 。

第三步，解得  $x = 64$ 。则最小的一个数为  $64 - 52 = 12$ 。

因此，选择 A 选项。

【拓展】

最小三个数的和为 45，其平均数为 15，则四个数中最小数一定小于 15，优先猜测 A 项。

52. (单选题) 一次知识竞赛共有 20 道题，规定：答对一题得 2 分，答错一题扣 1 分，未答的题不计分，比赛结束后，小刘共得 23 分，他想知道自己做错了几道题，但只记得未答的数目是个偶数，则小刘答错了 ( ) 道题。

- A.3
- B.4
- C.5
- D.6

【正确答案】：A

【解析】

解法一：

第一步，本题考查不定方程问题，用代入排除法解题。

第二步，直接代入 A 选项，如果做错 3 题，只有答对 13 题才能得到 23 分，故未答的题目数为  $20 - 3 - 13 = 4$  (道) 题，满足恰为偶数的条件。

因此，选择 A 选项。

解法二：

第一步，本题考查不定方程问题，用方程法解题。

第二步，设做对的有  $x$  道题，做错的有  $y$  道题，未做的有  $z$  道题。根据小刘共得 23 分，可得  $2x - y = 23$ ；根据一次知识竞赛共有 20 道题，可得  $x + y + z = 20$ 。

第三步，根据  $2x - y = 23$ ，所以  $y = 2x - 23$ ，把  $y$  代入  $x + y + z = 20$  中，化简会得到  $3x + z = 43$ ，由于  $z$  是偶数，那么，当  $z = 2$  时， $x$  不是整数，不符合题意，故排除。当  $z = 4$  时， $x = 13$ ， $y = 3$ ，符合题意。

因此，选择 A 选项。

53. (单选题) 某人有 5 元、10 元、20 元的人民币共 16 张，共 100 元，则 5 元人民币有 ( ) 张。

- A.2
- B.6
- C.10

D.14

【正确答案】：D

【解析】

第一步，本题考查不定方程问题，用方程法解题。

第二步，设三种人民币分别有  $x$ 、 $y$ 、 $z$  张，根据有 5 元、10 元、20 元的人民币共 16 张，可得  $x + y + z = 16$ ；根据共 100 元，可得  $5x + 10y + 20z = 100$ 。

第三步，消元解得  $x - 2z = 12$ ，即  $x = 2z + 12$ ，因为是人民币的张数，则  $x$ 、 $y$ 、 $z$  都是不为 0 的正整数。因为总张数为 16 张，20 元的面值过大，所以  $z$  要尽可能小一些，当  $z$  最小，为 1 时， $x = 14$ ，若  $z > 1$ ，则  $x > 14$ ，则根据选项中的数据，只有 14 符合要求。

因此，选择 D 选项。

54. (单选题) 一水池有一根进水管不间断地进水，另用若干根工作效率相同的抽水管一起抽水，若用 10 根抽水管 20 小时可以把池中的水抽干；若用 15 根抽水管 10 小时可把池中的水抽干，则用 25 根抽水管把池中的水抽干所需的时间为 ( ) 小时。

A.5

B.6

C.7

D.8

【正确答案】：A

【解析】

第一步，本题考查牛吃草问题，用公式法解题。

第二步，典型的牛吃草问题，可以利用核心公式  $Y = (N - X) \times T$  来解题，设原有的水量为  $Y$ ，不间断进水量为  $X$ ，时间为  $T$ ，根据用 10 根抽水管 20 小时可以把池中的水抽干，可得  $Y = (10 - X) \times 20$ ，根据用 15 根抽水管 10 小时可把池中的水抽干，可得  $Y = (15 - X) \times 10$ 。

第三步，解得  $X = 5$ ， $Y = 100$ 。根据  $X = 5$ ， $Y = 100$ ，代入 25 根抽水管可得  $Y = (25 - X) \times T$ ，解得  $T = 5$ ，故需要 5 小时可以抽干水池里的水。

因此，选择 A 选项。

55. (单选题) 一项工程由甲乙两个工程队共同承担。若甲队先干 5 天，余下的工程乙队单独完成需要 8 天，共需花费 98 万元；若乙队先干 4 天，余下的工程甲队单独完成需要 10 天，共需花费 94 万元。假设甲乙两队每天所需花费都是固定值，那么由乙队单独完成这一工程需花费 ( ) 万元。

A.86

B.90

C.102

D.110

【正确答案】：C

【解析】

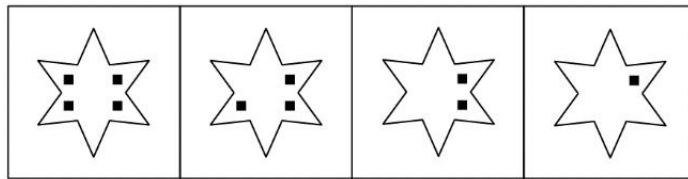
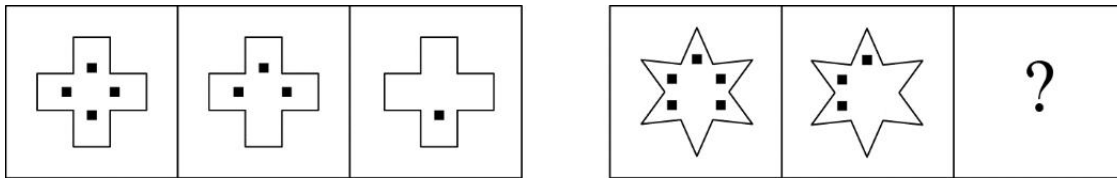
第一步，本题考查工程问题，属于效率类，用方程法解题。

第二步，设甲的效率为  $x$ ，乙的效率为  $y$ ，根据工程总量不变，列方程  $5x + 8y = 4y + 10x$ ，化简得  $5x = 4y$ ，赋值  $x = 4$ ， $y = 5$ 。则工程总量为  $5x + 8y = 60$ ，故乙单独完成需要  $\frac{60}{5} = 12$  (天)。

第三步，设甲的费用为  $a$  万元，乙的费用为  $b$  万元，根据两次花费，可得  $5a + 8b = 98$ ， $4b + 10a = 94$ ，解得  $a = 6$  (万元)， $b = 8.5$  (万元)，所以乙单独完成需要的费用为  $12 \times 8.5 = 102$  (万元)。

因此，选择 C 选项。

56. (单选题) 从所给的四个选项中，选择最合适一个填入问号处，使之呈现一定规律性：



A

B

C

D

A.如上图所示

B.如上图所示

C.如上图所示

D.如上图所示

【正确答案】： C

【解析】

第一步，观察特征。

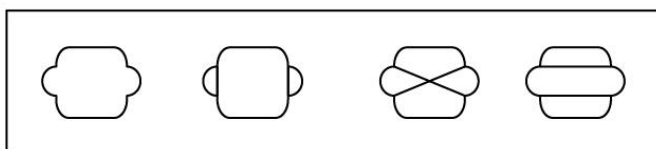
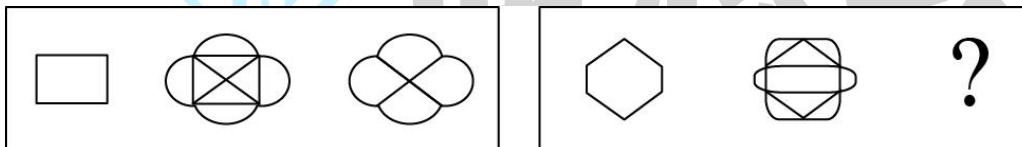
组成元素相似，第一个图形与后两个图形均有部分相同，优先考虑样式类运算。

第二步，两段式，第一段找规律，第二段应用规律。

第一段，每一个图外部框架不变，图 1 内部黑点减去图 2 内部黑点得到图 3 内部黑点；第二段，每一个图外部框架不变，图 1 内部黑点减去图 2 内部黑点得到图 3 内部黑点；只有 C 选项符合。

因此，选择 C 选项。

57. (单选题) 从所给的四个选项中，选择最合适一个填入问号处，使之呈现一定规律性：



A

B

C

D

A.如上图所示

B.如上图所示

C.如上图所示

D.如上图所示

【正确答案】： D

【解析】

第一步，观察特征。

组成元素相似，前两个图与第三个图均有部分相同，且线条居多，优先考虑样式类运算。

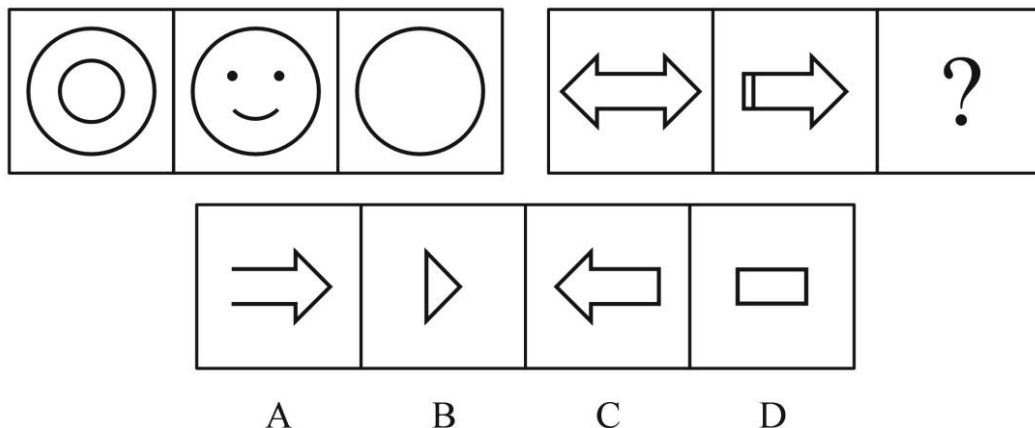
第二步，两段式，第一段找规律，第二段应用规律。

观察图形发现，第一段图 1 与图 2 去同求异得到图 3；所以，第二段应用规律，图 1 与图 2 去同求异得到图 3；只有 D 选项符合。

因此，选择 D 选项。

58. (单选题) 从所给的四个选项中，选择最合适一个填入问号处，使之呈现一定规律性：





- A.如上图所示  
B.如上图所示  
C.如上图所示  
D.如上图所示

【正确答案】： A

【解析】

第一步，观察特征。

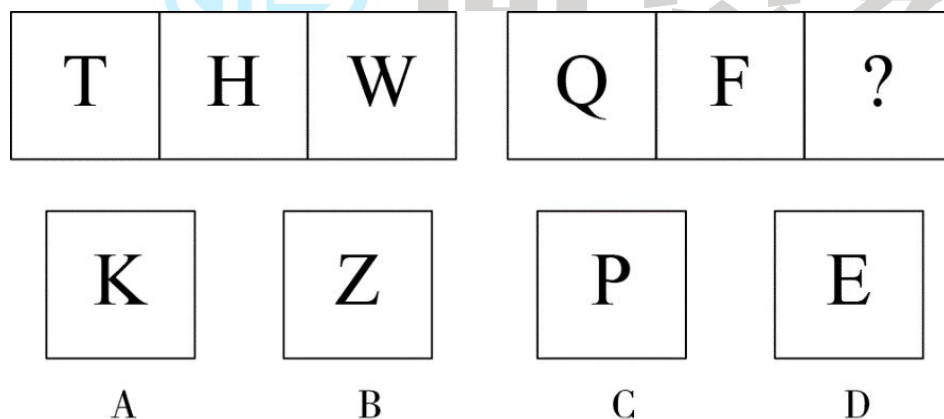
组成元素相似，前两个图形与第三个图形均有部分相同，优先考虑样式类运算。

第二步，两段式，第一段找规律，第二段应用规律。

观察第一段图形发现，图 1 和图 2 去异求同得到图 3。所以，第二段应用此规律，问号处图形应是由第二段图 1 和图 2 去异求同后得到，只有 A 选项符合。

因此，选择 A 选项。

59. (单选题) 从所给的四个选项中，选择最合适一个填入问号处，使之呈现一定规律性：



- A.如上图所示  
B.如上图所示  
C.如上图所示  
D.如上图所示

【正确答案】： D

【解析】

第一步，观察特征。

组成元素不同，优先考虑数量类或属性类，线条的特征比较明显，考虑数线。

第二步，两段式，第一段找规律，第二段应用规律。

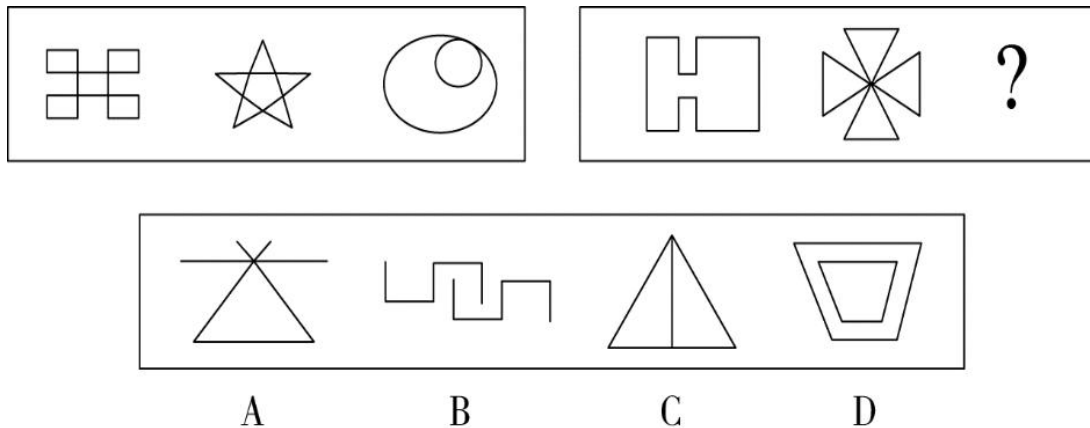
第一段，图形线条的数量依次为 2、3、4，第二段，图形线条的数量依次为 2、3、？，问号处图形应选择线条数量为 4 的图形，只有 D 选项符合。

因此，选择 D 选项。

【拓展】

规律二：数图形交点数，第一段，图形交点的数量依次为 1、2、3，第二段，图形交点的数量依次为 1、2、？，问号处图形应选交点数为 3 的图形，只有 D 选项符合。

60. (单选题) 从所给的四个选项中，选择最合适一个填入问号处，使之呈现一定规律性：



- A.如上图所示
- B.如上图所示
- C.如上图所示
- D.如上图所示

【正确答案】：C

【解析】

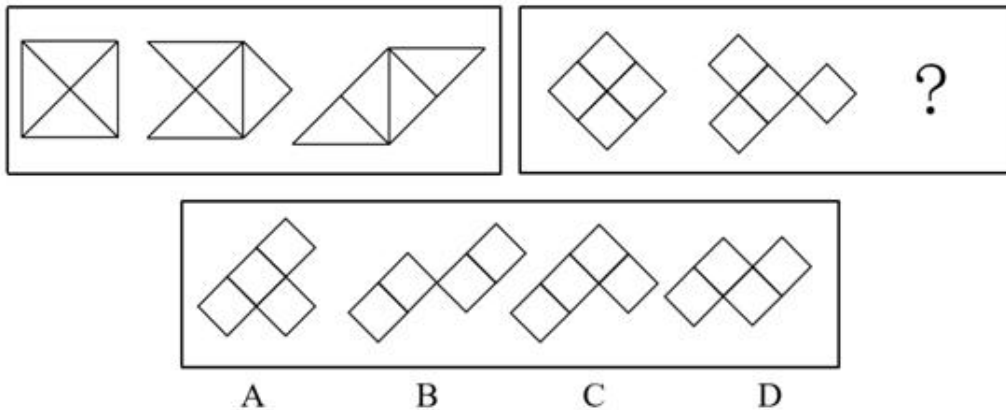
第一步，观察特征。

组成元素不同，优先考虑数量类或属性类。第一段第 2、3 个图形是常考的一笔画图形，考虑笔画数。

第二步，两段式，第一段找规律，第二段应用规律。

第一段，图形都是连通图，奇点数都是 0，所以都能一笔画成。第二段，前 2 个图形都是连通图，奇点数也都是 0，所以问号处图形也应该选择能够一笔画成的，选项 A、B、D 均为两笔画图形，只有 C 选项符合。因此，选择 C 选项。

61. (单选题) 从所给的四个选项中，选择最合适一个填入问号处，使之呈现一定规律性：



- A.如上图所示
- B.如上图所示
- C.如上图所示
- D.如上图所示


【正确答案】：B

【解析】

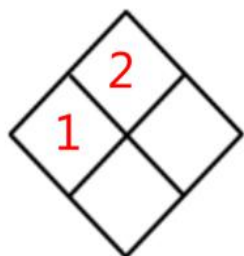
第一步，观察特征。

组成元素相同，每个图形都是由四个相同小图形构成，小图形发生明显位置变化，考虑位置类平移。

第二步，两段式，第一段找规律，第二段应用规律。



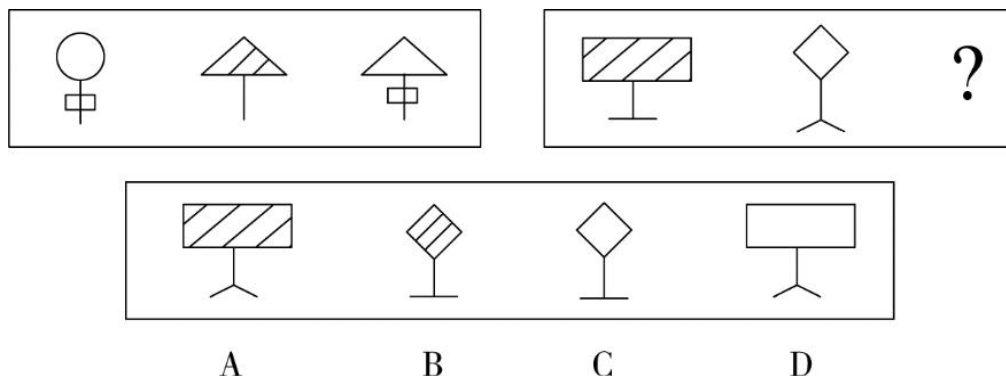
第一段，如上图，图 1 中 1 号三角形向右平移 3 个三角形，其他三角形位置不变，得到图 2；图 2 中 2 号三角形向右平移 3 个三角形，其他三角形位置不变，得到图 3。



第二段，如上图，图 1 中 1 号菱形向右平移 3 个菱形，其他菱形位置不变，得到图 2，图 2 中 2 号菱形向右平移 3 个菱形，其他菱形不动，得到问号处图形，只有 B 项符合。

因此，选择 B 选项。

62. (单选题) 从所给的四个选项中，选择最合适一个填入问号处，使之呈现一定规律性：



- A.如上图所示
- B.如上图所示
- C.如上图所示
- D.如上图所示

【正确答案】： B

【解析】

第一步，观察特征。

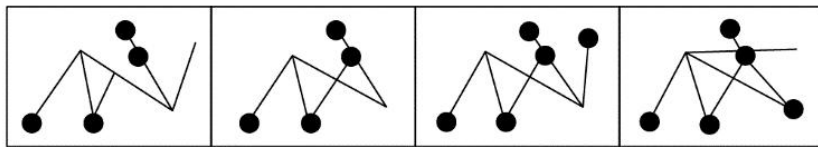
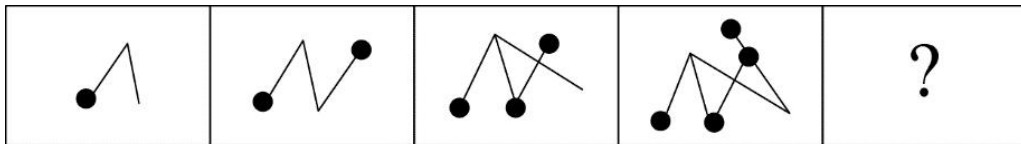
组成元素相似，前两个图形与第三个图形均有部分相同，优先考虑样式类运算。

第二步，两段式，第一段找规律，第二段应用规律。

第一段，图 3 的上半部分图形形状与图 2 上半部分图形形状一致，下半部分图形形状与图 1 的下半部分图形形状一致，且图 3 内部颜色与图 1 的内部颜色一致；第二段遵循第一段观察的规律，只有 B 选项符合。

因此，选择 B 选项。

63. (单选题) 从所给的四个选项中，选择最合适一个填入问号处，使之呈现一定规律性：



A

B

C

D

A.如上图所示

B.如上图所示

C.如上图所示

D.如上图所示

【正确答案】： D

【解析】

第一步，观察特征。

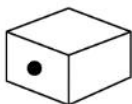
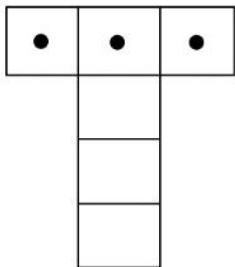
组成元素不同，且黑点与线条数量变化明显，优先考虑数量类。

第二步，一条式，从左到右找规律。

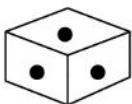
观察题干，黑点数量特征较为明显，依次是 1、2、3、4，呈现出等差规律，问号处图形应有 5 个黑点，排除 A、B 项；继续观察黑点的位置，图 2 是在图 1 基础上新增 1 线 1 黑点，并且新增加的黑点在新增线条的端点处；图 3 在图 2 基础上新增 1 线 1 黑点，且新增加的黑点在线条交点处；图 4 在图 3 上基础上新增 1 线 1 黑点，且新增加的黑点在新增线条端点处；新增黑点所在位置呈现出在新增线条端点、线条交点处依次循环的规律，因此图 5 应该在图 4 基础上新增 1 线 1 黑点，且新增加的黑点在交点处，只有 D 项符合。

因此，选择 D 选项。

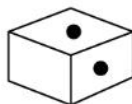
64. (单选题) 右边盒子不可能由左侧图形折叠而成的一个是：



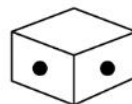
A



B



C



D

A.如上图所示

B.如上图所示

C.如上图所示

D.如上图所示

【正确答案】： B

【解析】

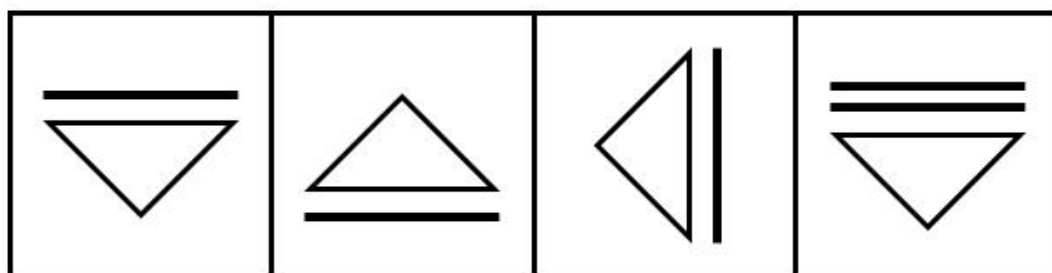

第一步，本题为六面体折纸盒题型。

第二步，分析选项。

观察题干，平面展开图中有 3 个黑点面，其中两个黑面点是相对面。根据相对面在立体图形中能且只能出现一个面，因此，黑点在立体图形中不能三个都出现，B 项不可能由左侧图形折叠而成。

因此，选择 B 选项。

65. (单选题) 从所给的四个选项中，选择最合适一个填入问号处，使之呈现一定规律性：



A

B

C

D

A.如上图所示

B.如上图所示

C.如上图所示

D.如上图所示

【正确答案】： A

【解析】

第一步，观察特征。

组成元素相似，元素的种类和数量一致，排列组合次序不同，优先考虑样式类遍历。

第二步，九宫格，横向规律较为常见，优先考虑。

第一行图形从左往右分别是三角形和一条线、正方形和两条线、圆形和三条线；三角形、方形、圆形所在的图形分别顺时针旋转 90°，得到第二行图形，第二行的图 1 是全阴影图形，属于干扰性元素；第二行图形分别顺时针旋转 90°，得到第三行的图形。依此规律，只有 A 项符合。

因此，选择 A 选项。

66. (单选题) 中秋节：月饼

A.端午节：粽子

B.春节：晚会

C.劳动节：鲜花

D.重阳节：登山



【正确答案】：A

【解析】

第一步，确定题干逻辑关系。

“中秋节”是中国四大传统节日之一，“中秋节”的习俗是吃“月饼”，二者属于传统节日与习俗的对应关系，并且“月饼”是一种食物。

第二步，辨析选项。

A项：“端午节”是中国四大传统节日之一，“端午节”的习俗是吃“粽子”，二者属于对应关系，并且“粽子”是一种食物，与题干逻辑关系一致，符合；

B项：“春节”是中国四大传统节日之一，“春节”会举办“晚会”庆祝，但“晚会”不是食物，排除；

C项：“劳动节”是节日，与“鲜花”没有明显逻辑关系，且“鲜花”不是食物，排除；

D项：“重阳节”是传统节日，“登山”是“重阳节”的活动之一，但“登山”不是食物，排除。

因此，选择A选项。

67. (单选题) 发达：落后

A.美味：可口

B.勤奋：努力

C.智慧：聪明

D.强壮：虚弱

【正确答案】：D

【解析】

第一步，确定题干逻辑关系。

“发达”与“落后”属于反义关系。

第二步，辨析选项。

A项：“美味”与“可口”属于近义关系，排除；

B项：“勤奋”与“努力”属于近义关系，排除；

C项：“智慧”与“聪明”属于近义关系，排除；

D项：“强壮”与“虚弱”属于反义关系，与题干逻辑关系一致，符合。

因此，选择D选项。

68. (单选题) 时间：停顿

A.微生物：生长

B.平行线：交叉

C.物质：存在

D.河流：干枯

【正确答案】：B

【解析】

第一步，确定题干逻辑关系。

“时间”是不会“停顿”的，二者属于否定的对应关系。

第二步，辨析选项。

A项：“微生物”和“生长”属于主谓关系，排除；

B项：“平行线”是不“交叉”的，二者属于否定的对应关系，与题干逻辑关系一致，符合；

C项：“物质”是“存在”的，二者属于对应关系，但与题干对应方式不一致，排除；

D项：“干枯”的“河流”，二者属于偏正关系，排除。

因此，选择B选项。

69. (单选题) 火车：客车

A.轮船：河流

B.桌子：窗户

C.菊花：玫瑰

D.青菜：盘子

【正确答案】：C

【解析】

第一步，确定题干逻辑关系。

“火车”和“客车”是两种交通工具，二者属于并列关系中的反对关系。

第二步，辨析选项。

A项：“轮船”在“河流”上航行，二者属于对应关系，排除；

B项：“桌子”和“窗户”无明显逻辑关系，排除；

C项：“菊花”和“玫瑰”是两种花，二者属于并列关系中的反对关系，与题干逻辑关系一致，符合；

D项：“青菜”做成菜肴后放在“盘子”里，二者属于对应关系，排除。

因此，选择C选项。

70. (单选题) 暖和：炎热

A.微笑：大笑

B.不规则：规则

C.简单：平凡

D.僻静：偏僻

【正确答案】：A

【解析】

第一步，确定题干逻辑关系。

“暖和”与“炎热”都属于热的状态，二者属于并列关系，且二者存在程度上的递进。

第二步，辨析选项。

A项：“微笑”与“大笑”都属于笑的状态，二者属于并列关系，且二者存在程度上的递进，与题干逻辑关系一致，符合；

B项：“不规则”与“规则”属于反义关系，排除；

C项：“简单”与“平凡”不存在程度上的递进，排除；

D项：“僻静”是指偏僻而安静，“偏僻”是指离城市或中心区远，交通不便，“僻静”与“偏僻”属于近义关系，但二者不存在程度上的递进，排除。

因此，选择A选项。

71. (单选题) 平凡：伟大

A.高尚：伟岸

B.平庸：优秀

C.洪亮：宽阔

D.可敬：可爱

【正确答案】：B

【解析】

第一步，确定题干逻辑关系。

“平凡”指平常的、普通的、缺乏独创性的，“伟大”指十分崇高卓越，二者属于反义关系。

第二步，辨析选项。

A项：“高尚”指道德品质高雅，“伟岸”指魁梧高大，二者无明显逻辑关系，排除；

B项：“平庸”指寻常且不突出、凡庸，“优秀”泛指人某一特质突出、好，二者属于反义关系，与题干逻辑关系一致，符合；

C项：“洪亮”指声音宏大响亮，“宽阔”指面积大、范围广，二者无明显逻辑关系，排除；

D项：“可敬”指值得尊敬，“可爱”指令人喜爱，二者不属于反义关系，排除。

因此，选择B选项。

72. (单选题) 农民：土地

A.学生：阅读

B.工人：工厂

C.教师：备课

D.医生：诊断

【正确答案】：B

【解析】

第一步，确定题干逻辑关系。

“农民”在“土地”上耕作，二者属于主体和工作地点的对应关系。

第二步，辨析选项。

A项：“学生”和“阅读”属于主谓关系，排除；

B项：“工人”在“工厂”里工作，二者属于主体和工作地点的对应关系，与题干逻辑关系一致，符合；

C项：“教师”和“备课”属于主谓关系，排除；

D项：“医生”和“诊断”属于主谓关系，排除。

因此，选择B选项。

73. (单选题) 读书：知识

A.锻炼：健康

B.恋爱：伴侣

C.工作：报酬

D.天赋：能力

【正确答案】：A

【解析】

第一步，确定题干逻辑关系。

通过“读书”获取“知识”，二者属于对应关系，且“读书”是动词，“知识”是抽象的。

第二步，辨析选项。

A项：通过“锻炼”获得“健康”，二者属于对应关系，且“锻炼”是动词，“健康”是抽象的，与题干逻辑关系一致，符合；

B项：“恋爱”是两个人之间的一种关系，“伴侣”是具象的名词，二者无明显逻辑关系，排除；

C项：通过“工作”获得“报酬”，二者属于对应关系，但“报酬”是具象的名词，排除；

D项：“天赋”本身就是一种“能力”，二者属于包容关系中的种属关系，排除。

因此，选择A选项。

74. (单选题) 感冒：发烧

A.醉酒：车祸

B.晕车：呕吐

C.夏天：暴雨

D.比赛：获奖

【正确答案】：B

【解析】

第一步，确定题干逻辑关系。

“感冒”可能会导致“发烧”，二者属于或然因果对应关系，且“发烧”是一种生理反应。

第二步，辨析选项。

A项：“醉酒”可能会导致“车祸”，二者属于或然因果对应关系，但“车祸”不是一种生理反应，排除；

B项：“晕车”可能会导致“呕吐”，二者属于或然因果对应关系，且“呕吐”是一种生理反应，与题干逻辑关系一致，符合；

C项：“暴雨”是“夏天”里的一种自然现象，但对应方式与题干不一致，排除；

D项：先“比赛”后“获奖”，二者属于时间上的顺承对应关系，排除。

因此，选择B选项。

75. (单选题) 货币：购物

A.铅笔：写字

B.汽车：运输

C.空气：呼吸

D.电脑：上网

【正确答案】：A

【解析】

第一步，确定题干逻辑关系。

“货币”是用来“购物”的，二者属于对应关系，且“购物”会导致“货币”减少。

第二步，辨析选项。

- A项：“铅笔”是用来“写字”的，二者属于对应关系，且“写字”会导致铅笔减少，与题干逻辑关系一致，符合；  
B项：“汽车”是用来“运输”的，二者属于对应关系，但“运输”不会导致“汽车”减少，排除；  
C项：“呼吸”和“空气”属于动宾关系，排除；  
D项：“电脑”是用来“上网”的，二者属于对应关系，但“上网”不会导致“电脑”减少，排除。

因此，选择A选项。

76. (单选题) 群众对领导干部的不满，不仅产生于领导的作为和业绩，而且很大程度上是由于对领导的期望值与实际表现之间的差距。因此，如果竞选任何一个单位或部门的领导，竞选者在竞选过程中一味向群众许愿、夸海口是一种不明智的做法。

从以上议论可以推出以下哪项结论？

- A.由于群众的期望值高，尽管领导的工作成绩优秀，群众的不满情绪仍可能存在  
B.只要领导的作为和业绩出色，群众就不会产生不满情绪  
C.只要群众对领导的期望值足够低，即使这个领导在职期间无所作为，群众也不会产生不满情绪  
D.聪明的领导竞选者在竞选时不应向群众承诺什么

【正确答案】：A

【解析】

第一步，确定题型。

根据题干特征和提问方式，确定为归纳推理。

第二步，辨析选项。

- A项：题干指出“对领导的期望值与实际表现之间的差距”很大程度上导致群众不满，所以“即便业绩优秀，但仍然没有达到群众的高期望值，进而产生不满情绪”可能存在，可以推出；  
B项：题干指出“对领导的期望值与实际表现之间的差距”很大程度上导致群众不满，所以并非只要业绩出色群众就不会产生不满情绪，排除；  
C项：“领导的作为和业绩”是导致群众不满的原因之一，所以领导无所作为，群众会产生不满，排除；  
D项：题干指出的是不能“一味”向群众许愿，而不是不向群众承诺，排除。

因此，选择A选项。

77. (单选题) 某化工厂因污染物排放问题与附近农民发生纠纷。

农民：“化工厂建成后，我们的庄稼逐年减产。化工厂应对此负责。”

化工厂代表：“庄稼减产是受到害虫破坏，与我厂无关。”

下面哪项如果为真，最能够反驳化工厂代表的言论？

- A.化工厂周围存在茂盛的植被，近两年受污染后变得十分稀疏  
B.某专业部门宣称，经检测，在庄稼地里发现大量害虫  
C.化工厂废弃物破坏了当地的生态平衡，使得害虫大量繁殖  
D.化工厂的个别工人有践踏农田，破坏庄稼的行为

【正确答案】：C

【解析】

第一步，确定题型。

根据提问方式中的“反驳”，确定为削弱论证。

第二步，找论点和论据。

论点：庄稼减产是受到害虫破坏，与我厂无关。

论据：无。

第三步，辨析选项。

- A项：无关选项。选项提到的“工厂周边的植被受损”，与题干论点中论述的“庄稼减产”无关，论题不一致，排除。  
B项：增加论据。选项论述在庄稼地里发生了害虫，加强了化工厂的观点，具有加强作用。  
C项：增加反向论据。化工厂破坏了生态平衡，导致害虫大量繁殖，说明害虫与化工厂有关，间接说明化工厂与庄稼减产有关，具有削弱作用。  
D项：无关选项。选项论述个别工人有践踏农田，破坏庄稼的行为，而题干论题是某化工厂因污染物排放问题与附近农民发生纠纷，论题不一致，排除。

因此，选择 C 选项。

78. (单选题) 甲：“你不能再抽烟了，抽烟确实对您的健康非常不利。”

乙：“你错了，我这样抽烟已经 15 年了，但并没有患肺癌，上个月我刚做了体检。”

有关上述对话，以下哪项如果为真，最能加强和支持甲的意见？

A. 对健康的危害不仅指患肺癌或其他明显疾病，还包括潜在影响

B. 如果不断抽烟，那么烟瘾越来越大，以后就更难戒除了

C. 抽烟不仅影响健康，而且还污染环境

D. 与名牌的优质烟相比，冒牌劣质烟对健康的危害更甚

【正确答案】：A

【解析】

第一步，确定题型。

根据提问方式中的“加强”，确定为加强论证。

第二步，找论点和论据。

论点：你不能再抽烟了，抽烟确实对您的健康非常不利。

论据：无。

第三步，辨析选项。

A 项：增加论据。对健康的危害还包括潜在影响，因此不能仅仅通过“没有患肺癌”得出“抽烟不利于健康”是错误的，不利影响可能是潜在的，具有加强作用。

B 项：无关选项。烟瘾难以戒除与论点抽烟对健康不利无关，论题不一致，排除。

C 项：无关选项。选项重点强调抽烟会污染环境，与题干论点无关，且“影响健康”和“对健康不利”不是同一概念，论题不一致，排除。

D 项：无关选项。选项论述名牌优质烟和冒牌劣质烟对于健康的危害，与论题“抽烟是否不利于健康”无关，论题不一致，排除。

因此，选择 A 选项。

79. (单选题) 有人提出过，为什么不能给民航客机上的每个座位配备一个小型降落伞，发生意外时每个人都能有求生的机会。实际上，这种做法的可行性很低。

以下各项如果为真，最不能支持上述观点的是：

A. 求生的本能会让机组人员放弃排除事故，而选择弃机跳伞

B. 民航飞行环境中的高度、温度、气压条件不符合跳伞要求

C. 飞机从发现故障到出事的时间一般很短，没有足够时间组织乘客跳伞

D. 飞机载客数量会因为配备了降落伞而减少，航空公司不愿因此降低收益

【正确答案】：A

【解析】

第一步，确定题型。

根据提问方式中的“不能支持”，确定为加强论证选非题。

第二步，找论点和论据。

论点：给民航客机上的每个座位配备一个小型降落伞的做法可行性很低。

论据：无。

第三步，辨析选项。

A 项：无关选项。选项论述的是“求生的本能使得机组人员发生意外时，选择弃机跳伞”，与论点中“给民航客机上的每个座位配备降落伞的可行性”无关，论题不一致，排除。

B 项：增加论据。该项说的是民航飞行环境不符合跳伞要求，说明在飞机上配备小型降落伞是不可行的，支持了论点，具有加强作用。

C 项：增加论据。该项说的是飞机上没有足够时间组织乘客跳伞，说明在飞机上配备小型降落伞是不可行的，支持了论点，具有加强作用。

D 项：增加论据。选项说的是航空公司不愿因配备降落伞而降低收益，说明在飞机上配备小型降落伞是不可行的，支持了论点，具有加强作用。

因此，选择 A 选项。



【拓展】

可行性：主要指在现实中具有可操作和可执行性，一般会考虑成本，客观条件等因素。

80. (单选题) 有调查表明，学生玩手机时间过长会影响学习成绩。因此，学校做出决定，禁止学生在上课期间使用手机。

以下最能质疑该学校决定的一项是：

- A. 学生在上课期间使用手机查询学习资料
- B. 学生使用手机有利于提高交往能力
- C. 禁止使用手机会引起学生的不满情绪
- D. 学生主要在课余时间使用手机

【正确答案】：D

【解析】

第一步，确定题型。

根据提问方式中的“质疑”，确定为削弱论证。

第二步，找论点和论据。

论点：学校做出决定，禁止学生在上课期间使用手机。

论据：学生玩手机时间过长会影响学习成绩。

第三步，辨析选项。

A 项：增加反向论据。选项说明上课期间使用手机不是为了玩，而是查阅资料，能够帮助学习，具有削弱作用。

B 项：无关选项。选项提到的“交往能力”与论点中“学习成绩”无关，论题不一致，排除。

C 项：无关选项。“是否引起学生的不满情绪”与论点中“学习成绩”无关，论题不一致，排除。

D 项：否定前提。学校的决定是禁止在上课期间玩手机，隐含的前提是学校认为学生在要在上课时玩手机影响学习成绩，而选项说学生主要在课余时间玩手机，即不在上课时玩手机，否定了前提，学校做出的决定不能起作用，具有削弱作用。

第四步，强弱比较。

否定前提的削弱力度强于增加反向论据，故 D 项削弱力度强于 A 项。

因此，选择 D 选项。

81. (单选题) 某地火车站春运时间采取限量购票的做法，每名旅客一次限购卧铺票 3 张，或座票 5 张，据调查，该做法并未对广大旅客造成不便。

以下最有助于解释调查结果的一项是：

- A. 许多旅客改乘汽车回家
- B. 车票限购有利于打击票贩子
- C. 许多旅客多次排队购票
- D. 旅客购票数量一般少于 3 张

【正确答案】：D

【解析】

第一步，确定题型。

根据提问方式“解释”，确定为原因解释。

第二步，分析题干。

题干中的现象是：每名旅客一次限购卧铺票 3 张或座票 5 张，该做法并未对广大旅客造成不便。

第三步，辨析选项。

A 项：许多旅客改乘汽车回家，这说明限购造成了不便，已经改乘汽车了，无法解释，排除；

B 项：限购有利于打击票贩子，并没有解释该做法并未对广大旅客造成不便的原因，无法解释，排除；

C 项：许多旅客多次排队购票，说明确实不便，没有解释该做法并未对广大旅客造成不便的原因，无法解释，排除；

D 项：旅客购票数量一般少于 3 张，说明限购卧铺票 3 张或座票 5 张不会造成不便，可以解释。

因此，选择 D 选项。

【考点】

判断推理

逻辑判断

原因解释

【来源】

2015 年广东省事业单位统招综合类真题《职业能力测试》第 81 题、2019.7.20 广东省公安厅事业单位招聘工作人员试题第 89 题

82. (单选题) 某小区一些住户乱停乱放车辆, 常常造成交通堵塞。小区物管对一位乱停车辆的车主说: “如果你不在规定的时间内将车开走, 我们将对你实施罚款处罚。”该车主回答: “我坚决不同意。”

按照车主的说法, 他同意的是:

- A. 在规定时间内不将车开走, 也不接受处罚
- B. 在规定时间内将车开走以免受处罚
- C. 在规定时间内不将车开走, 接受处罚
- D. 延期将车开走, 并免收处罚

【正确答案】: A

【解析】

第一步, 确定题型。

根据题干关键词“如果……就……”, 确定为翻译推理。

第二步, 翻译题干。

①不开走→罚款

第三步, 进行推理。

根据已知条件“车主不同意”, 说明车主的意思对①的否定, 即车主表达的意思是①的矛盾, 根据  $A \rightarrow B$  的矛盾是:  $A$  且  $\neg B$ , 可得到: “不开走且  $\neg$  罚款”, 即既不开走也不罚款。

因此, 选择 A 选项。

83. (单选题) 有三名学生到国外留学, 一名去英国, 一名去美国, 一名去加拿大。关于谁去了那个国家, 有人做了如下猜测:

甲: A 去了美国, B 去了英国;

乙: A 去了英国, C 去了美国;

丙: A 去了加拿大, B 去了美国。

后来证实, 甲、乙、丙三人的猜测都只对了一半, 由此可以推出:

- A. A 去了美国、B 去了英国、C 去了加拿大
- B. A 去了英国、B 去了美国、C 去了加拿大
- C. A 去了加拿大、B 去了英国、C 去了美国
- D. A 去了加拿大、B 去了美国、C 去了英国

【正确答案】: C

【解析】

第一步, 确定题型。

题干有明显的信息匹配特征, 确定为分析推理。

第二步, 分析条件, 进行推理。

题干信息真假不定, 选项信息充分, 结合“甲、乙、丙三人的猜测都只对了一半”, 故采用代入法。

A 项: 代入后, 甲的猜测全对, 不符合题意, 排除;

B 项: 代入后, 甲的猜测全错, 不符合题意, 排除;

C 项: 代入后, 甲、乙、丙担任的猜测都只对了一半, 符合题意, 正确;

D 项: 代入后, 甲的猜测全错, 不符合题意, 排除。

因此, 选择 C 选项。

84. (单选题) 一项调查报告显示, 儿童意外伤害地点排名中, 客厅卧室站 39.85%, 排名居首, 其次才是幼儿园占 37.41%, 再次是公共场所和娱乐场所 22.74%, 由此有专家认为, 儿童受伤, 头号凶手是“家”。

以下选项, 最能削弱上述结论的是:

- A. 调查显示, 很多情况下儿童受伤是因为年轻父母缺乏经验造成的
- B. 据调查, 造成意外死亡的地点大多是在公共场所和娱乐场所
- C. D. 这份调查是针对 3 至 6 岁儿童进行的

【正确答案】：C

【解析】

第一步，确定题型。

根据提问方式中的“削弱”，确定为削弱论证。

第二步，找论点和论据。

论点：儿童受伤，头号凶手是“家”。

论据：儿童意外伤害地点排名中，客厅卧室占 39.85%，排名居首。

第三步，辨析选项。

A 项：无关选项。该项讨论的是受伤原因，而题干讨论的是意外伤害的地点，论题不一致，排除。

B 项：无关选项。该项讨论的是意外死亡的地点，而题干讨论的是意外伤害的地点，论题不一致，排除。

C 项：增加反向论据。该项指出儿童在客厅的时间长达 50%，说明意外受伤地点在客厅的概率比其他地点高属于正常现象，不能由此说明儿童受伤的头号凶手是“家”，具有削弱作用。

D 项：增加反向论据。该项指出调查对象是 3 至 6 岁儿童，说明论据中儿童的数据可能代表不了所有儿童的数据，具有削弱作用。

第四步，强度比较。

C 项是确定性的削弱，D 项是可能性的削弱，因此 C 项力度强于 D 项

因此，选择 C 选项。

85. (单选题) 有人向某市政府提议，应该在所有新建的房屋内安装一种起火时会自动激发的洒水器，但是一位房地产开发商认为，既然 90% 的房屋着火都是被家庭成员扑灭的，所以安置室内自动洒水器对灭火意义不大。

以下哪项如果为真，则最能削弱房地产开发商的观点？

A. 大多数人都没有经过灭火技能的正规训练

B. 住宅着火导致大部分财产损失是因为起火时家人都不在

C. 该市消防队奔赴火场的时间要比全国平均时间短

D. 在住宅内安装烟雾探测器比安装洒水器要便宜得多

【正确答案】：B

【解析】

第一步，确定题型。

根据提问方式中的“削弱”，确定为削弱论证。

第二步，找论点和论据。

论点：安置室内自动洒水器对灭火意义不大。

论据：90% 的房屋着火都是被家庭成员扑灭的。

第三步，辨析选项。

A 项：无关选项。大多数人都没有经过灭火技能的正规训练与安置室内自动洒水器对灭火的意义无关，论题不一致，排除。

B 项：增加反向论据。大部分财产损失是因为起火时家人都不在，说明安装自动洒水器有必要，增加一个新论据证明应该安装自动洒水器，具有削弱作用。

C 项：无关选项。消防队奔赴火场的时间长短与安置室内自动洒水器对灭火的意义无关，论题不一致，排除。

D 项：无关选项。烟雾探测器和洒水器的价格比较与安置室内自动洒水器对灭火的意义无关，论题不一致，排除。

因此，选择 B 选项。

复合题

2010 年至 2014 年间，随着城乡居民收入水平提高，对外公务、商务和会展业的兴起，K 省住宿餐饮业发展速度不断加快，规模持续扩大，形成了多种经济成分共同发展的多元化经营格局。

K 省的住宿服务企业可分为旅游饭店和一般旅馆两大类。2014 年，K 省拥有旅游饭店 1821 家，比 2010 年增长 45.0%，从业人员 28.99 万人，增长 54.2%，实现营业额 305.30 亿元，增长 76.6%，拥有客房数 22.50 万间，床位 37.70 万张。2014 年，K 省的一般旅馆有 3091 家，从业人员 7.42 万人，营业收入 67.25 亿元，客房数 19.92 万间，床位数 32.21 万个。在全省的住宿业企业中，2014 年星级旅馆共有 1148 家，其中五星级 98 家，四星级 225 家，三星级 566 家，二星级 230 家，一星级 29 家。

2014 年，有关部门对 K 省的餐饮服务企业分为正餐服务企业和快餐服务企业加以

86. (单选题) 2014 年，平均每家旅游饭店吸收从业人员大约 ( ) 人。

- A.24
- B.29
- C.128
- D.159

【正确答案】： D

【解析】

第一步， 本题考查现期平均数中的单平均数。

第二步， 定位文字材料第二段，“2014 年， K 省拥有旅游饭店 1821 家， 比 2010 年增长 45.0%， 从业人员 28.99 万人”。

第三步， 根据平均数=后/前， 观察选项， 出现了首位相同第二位不同的情况， 将分母从左向右截取前三位， 分子取

整。代入数据， 可得  $\frac{29}{182}$ ， 直除首两位商 15。

因此， 选择 D 选项。

87. (单选题) 2014 年， 平均每家旅游饭店床位数约是一般旅馆的 ( ) 倍。

- A.1.5
- B.1.
- C.2.0
- D.2.2

【正确答案】： C

【解析】

第一步， 本题考查倍数杂糅计算中平均数与倍数杂糅。

第二步， 定位文字材料第二段，“2014 年， K 省拥有旅游饭店 1821 家， 比 2010 年增长 45.0%， 拥有客房数 22.50 万间， 床位 37.70 万张。2014 年， K 省的一般旅馆有 3091 家， 床位数 32.21 万个”。

第三步， 根据倍数=前/后， 观察选项， 选项首位相同， 第二位不同， 分母从左向右截取前三位， 分子取整， 代入

可得  $\frac{38}{182} \div \frac{32}{309} = \frac{309}{182} \times \frac{38}{32} \approx 1.7 \times 1.2 = 2.04$  倍， 与 C 选项最接近。

因此， 选择 C 选项。

88. (单选题) 2010 年至 2014 年， 快餐服务企业的营业额增加值约占全省餐饮企业营业额增加值的：

- A.23%
- B.27%
- C.32%
- D.35%

【正确答案】： B

【解析】

第一步， 本题考查现期比重计算中求比重。

第二步， 定位文字材料第三段，“2014 年， 正餐服务企业共 6292 家， 占餐饮企业总量的 77.9%， 实现营业收入 355.66 亿元， 分别比 2010 年增长 24.9%和 84.0%。2014 年快餐服务企业 828 家， 营业额 100.89 亿元， 分别比 2010 年增长 93.4%、 115.0%和 145.2%”。

第三步， 根据增长量=现期量×增长率/(1+增长率)， 与 2010 年相比， 2014 年快餐服务企业的营业额的增长率为 145.2%。观察选项， 出现了首位相同第二位不同的情况， 将分母从左向右截取前三位， 分子取整。代入数据， 得到

与 2010 年相比， 2014 年全省快餐服务企业的营业额增加值约为  $\frac{101}{1+1.45} \times 1.45 \approx \frac{146}{2.45} \approx 60$  (亿元)； 84%约为 8.3%

的 10 倍， 故  $84\% \approx \frac{1}{1.2}$ ， 根据增长量计算 n+1 原则， 分子取整。代入数据， 得到与 2010 年相比， 2014 年全省正



餐服务企业营业增加值为增长约  $\frac{356}{1+1.2} = \frac{356}{2.2} \approx 162$  (亿元)。

第四步, 2010 年至 2014 年, 快餐服务企业的营业额增加值约占全省餐饮企业营业增加值的比重为  $\frac{60}{60+162} = \frac{60}{222}$ ,

直除首两位商 27。

因此, 选择 B 选项。

89. (单选题) 以下关于住宿餐饮业的说法正确的是:

- A. 快餐服务企业的经营状况普遍好于正餐服务企业
- B. 住宿餐饮业的从业人员主要集中在旅游饭店
- C. 正餐服务企业的人均营业额在四类住宿餐饮企业中最高
- D. 住宿服务业的营业收入主要由旅游饭店创造

【正确答案】: D

【解析】

第一步, 本题考查综合分析, 且需选出正确的一项。

第二步, A 选项, 简单计算中的直接读数。定位文字材料第三段, “2014 年, 正餐服务企业餐饮从业人员 33.06 万人, 实现营业收入 355.66 亿元, 分别比 2010 年增长 24.9% 和 84.0%……2014 年快餐服务企业 828 家, 从业人员 8.13 万人, 营业额 100.89 亿元, 分别比 2010 年增长 93.4%、115.0% 和 145.2%”, 显然 2014 年正餐服务企业实现的营业额比快餐高, 得不到快餐服务企业的经营状况普遍好于正餐服务企业, 错误。

B 选项, 简单计算中的直接读数。定位文字材料第二段与第三段, “2014 年, 旅游饭店从业人员 28.99 万人, 一般旅馆从业人员 7.42 万人, 正餐服务业餐饮从业人员 33.06 万人, 快餐服务企业从业人员 8.13 万人”。可知住宿餐饮业的从业人员主要集中在正餐服务业, 错误。

C 选项, 现期平均数的比较。定位文字材料第二段与第三段, “2014 年, K 省拥有旅游饭店从业人员 28.99 万人, 实现营业收入 305.30 亿元; K 省的一般旅馆从业人员 7.42 万人, 营业收入 67.25 亿元……2014 年, 正餐服务业餐饮从业人员 33.06 万人, 实现营业收入 355.66 亿元; 2014 年快餐服务企业从业人员 8.13 万人, 营业额 100.89 亿元”。平均数=后/前, 比较类问题, 将分母从左向右截取前两位, 分子取整。代入数据, 得到正餐服务企业的人均营业额约

为  $\frac{356}{33}$ , 直除首两位商 10; 快餐服务业人均营业额约为  $\frac{101}{8.1}$ , 直除首两位商 12; 旅游饭店人均营业额约为  $\frac{305}{29}$ ,

直除首两位商 10; 一般旅馆人均营业额约为  $\frac{67}{7.4} < 10$ 。快餐服务业人均营业额最高, 错误。

D 选项, 简单计算中的直接读数。定位文字材料第二段, “2014 年, K 省拥有旅游饭店从业人员 28.99 万人, 实现营业收入 305.30 亿元; K 省的一般旅馆从业人员 7.42 万人, 营业收入 67.25 亿元”。显然 2014 年旅游饭店营业收入较高, 正确。

因此, 选择 D 选项。

90. (单选题) 以下关于住宿餐饮业的说法不正确的是:

- A. 2010 年正餐服务企业营业额超过 200 亿元
- B. 2014 年餐饮服务企业约有 8077 家
- C. 2014 年住宿服务企业中, 星级宾馆约占 23%
- D. 住宿业的营业收入主要由旅游饭店创造

【正确答案】: A

【解析】

第一步, 本题考查综合分析, 且需选出错误的一项。

第二步, A 选项, 基期量的计算。根据文字材料第三段“2014 年, 正餐服务企业共 6292 家……餐饮从业人员 33.06 万人, 实现营业收入 355.66 亿元, 分别比 2010 年增长 24.9% 和 84.0%”。根据基期量=现期量/(1+增长率), 代入

数据得到 2010 年正餐服务企业营业额为  $\frac{355.66}{1.84} < 200$  (亿元), 错误。

B 项, 现期比重求整体量。定位文字材料第三段, “2014 年, 正餐服务企业共 6292 家, 占餐饮企业总量的 77.9%”。



根据公式整体量 = 部分量/比重，得到 2014 年餐饮服务企业为  $\frac{6292}{77.9\%} \approx 8077$ （家），正确。

C 项，现期比重求比重。定位文字材料第二段，“K 省的住宿服务企业可分为旅游饭店和一般旅馆两大类。2014 年，K 省拥有旅游饭店 1821 家，拥有一般旅馆有 3091 家；在全省的住宿业企业中，2014 年星级旅馆共有 1148 家”。根

据比重 = 部分量/整体量，得到 2014 年住宿服务企业中，星级宾馆的比重为  $\frac{1148}{1821 + 3091} = \frac{1148}{4912}$ ，数据截位舍相

同得到  $\frac{115}{491} \approx 23\%$ ，正确。

D 项，简单计算中的直接读数类。根据文字材料第二段“2014 年，K 省拥有旅游饭店从业人员 28.99 万人，实现营业额 305.30 亿元；K 省的一般旅馆从业人员 7.42 万人，营业收入 67.25 亿元”。可以得到，2014 年旅游饭店营业收入明显较高，正确。

因此，选择 A 选项。

### 复合题

甲、乙、丙三市外来务工人员占本市人口总数的比重统计表（单位：%）

	1985 年	1990 年	1995 年	2000 年	2005 年	2010 年
甲市	30.4	35.8	34.7	39.3	40.6	38.4
乙市	24.5	26	42.1	46.3	50.4	49.7
丙市	37.9	49.5	60.9	66.3	77.4	62.6

91.（单选题）2005 年，甲市外来务工人员占本市人口总数的比重是：

- A.40.6%
- B.39.7%
- C.38.4%
- D.36.6%

【正确答案】：A

【解析】

第一步，本题考查简单计算中的直接读数问题。

第二步，定位表格材料，“2005 年甲、乙、丙三市外来务工人员占本市人口总数的比重分别为 40.6%、50.4%、77.4%”。

第三步，直接读数可知 2005 年，甲市外来务工人员占本市人口总数的比重 40.6%。

因此，选择 A 选项。

92.（单选题）乙市外来务工人员占本市人口总数比重最高的年份是：

- A.1995 年
- B.2000 年
- C.2005 年
- D.2010 年

【正确答案】：C

【解析】

第一步，本题考查简单计算中的直接读数问题。

第二步，定位表格材料第三行。

第三步，直接读数可知，2005 年乙市外来务工人员占本市人口总数的比重（50.4%）最大。

因此，选择 C 选项。

93.（单选题）2010 年丙市外来务工人员占本市人口总数比 2005 年下降了：

- A.16.8%
- B.14.8%

C.13.8%

D.12.8%

【正确答案】： B

【解析】

第一步， 本题考查简单计算中的和差类问题。

第二步， 定位表格第四行材料，“2005、2010 年丙市外来务工人员占本市人口总数比重分别为 77.4%、62.6%”。

第三步， 则 2010 年丙市外来务工人员占本市人口总数的比重比 2005 年下降  $77.4\% - 62.6\% = 14.8\%$ 。

因此，选择 B 选项。

94. (单选题) 2005 年外来务工人员占本市人口总数比重最高的市是：

A.甲

B.乙

C.丙

D.无法得知

【正确答案】： C

【解析】

第一步， 本题考查简单计算中的直接读数问题。

第二步， 定位表格材料，“2005 年甲乙丙三市的比重分别为 40.6%、50.4%、77.4%”。

第三步， 读数可知，2005 年丙市外来务工人员占本市人口总数的比重（77.4%）最大。

因此，选择 C 选项。

95. (单选题) 2010 年乙市外来务工人员占本市人口总数的比重比甲市高：

A.21.3%

B.19.9%

C.11.3%

D.12.3%

【正确答案】： C

【解析】

第一步， 本题考查简单计算中的和差类问题。

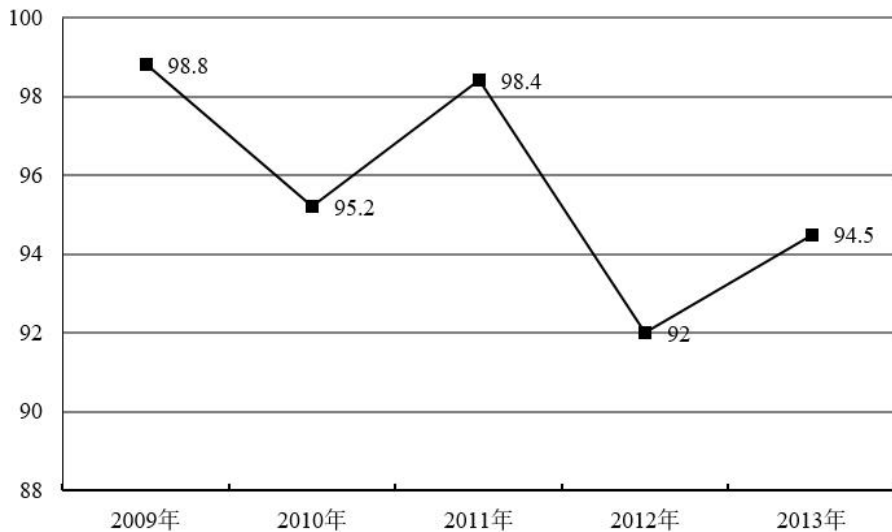
第二步， 定位表格材料的最后一列，“2010 年甲、乙市外来务工人员占本市人口总数比重分别为 38.4%、49.7%”。

第三步， 则 2010 年，乙市外来务工人员占本市人口总数的比重比甲市高  $49.7\% - 38.4\% = 11.3\%$ 。

因此，选择 C 选项。

复合题

2006 年至 2013 年 Y 省高校毕业生人数分别为 21 万人、27 万人、29.5 万人、34.5 万人、30.5 万人、32.4 万人、34.6 万人和 36.5 万人，其中男生所在比例分别为 54.8%、52.2%、52.5%、51.8%、51%、50.2%、48.8%和 46.7%。



2009 年—2013 年 Y 省高校毕业生年底就业走势图（单位：%）

96. (单选题) 2007 年—2013 年, Y 省高校毕业生人数同比增长最低的年份是:

- A.2008 年
- B.2010 年
- C.2012 年
- D.2013 年

【正确答案】: B

【解析】

第一步, 本题考查增长率比较类中的增长率计算比较。

第二步, 定位文字材料, “2006 年至 2013 年 Y 省高校毕业生人数分别为 21 万人、27 万人、29.5 万人、34.5 万人、30.5 万人、32.4 万人、34.6 万人和 36.5 万人”。

第三步, 根据公式增长率= (现期量-基期量)/基期量。得到 2008 年增长率为  $\frac{29.5-27}{27} > 0$ ; 2010 年增长率为  $\frac{30.5-34.5}{34.5} < 0$ ; 2012 年增长率为  $\frac{34.6-32.4}{32.4} > 0$ ; 2013 年增长率为  $\frac{36.5-34.6}{34.6} > 0$ ; 则增长率最低的年份是 2010 年。

因此, 选择 B 选项。

97. (单选题) 2007 年—2013 年, Y 省高校毕业生中男生所占比例相对上一年变动最大的年份是:

- A.2007 年
- B.2009 年
- C.2012 年
- D.2013 年

【正确答案】: A

【解析】

第一步, 本题考查简单比较中的和差比较。

第二步, 根据文字材料, “2006 年至 2013 年 Y 省高校毕业生……其中男生所在比例分别为 54.8%、52.2%、52.5%、51.8%、51%、50.2%、48.8%和 46.7%”。

第三步, 得到 2007 年相对上一年变化为  $|52.2\% - 54.8\%| = 2.6\%$ , 2009 年相对上一年变化为  $|51.8\% - 52.5\%| = 0.7\%$ , 2012 年相对上一年的变化为  $|48.8\% - 50.2\%| = 1.4\%$ , 2013 年相对上一年的变化为  $|46.7\% - 48.8\%| = 2.1\%$ 。则 Y 省高校毕业生中男生所占比例相对上一年的变化最大的是 2007 年。

因此, 选择 A 选项。

98. (单选题) 2007 年—2013 年, Y 省高校毕业生年底就业人数最多和最少的年份分别是:

- A.2011 年和 2010 年

- B.2011 年和 2009 年  
C.2013 年和 2010 年  
D.2013 年和 2009 年

【正确答案】：C

【解析】

第一步，本题考查比重比较。

第二步，定位文字材料，“2006 年至 2013 年 Y 省高校毕业生人数分别为 21 万人、27 万人、29.5 万人、34.5 万人、30.5 万人、32.4 万人、34.6 万人和 36.5 万人”。定位图形可知：2009 年毕业生就业率为 98.8%，2010 年为 95.2%，2011 年为 98.4%，2013 年为 94.5%。

第三步，根据公式部分量=整体量×比重。可以得到 2011 年的就业人数  $32.4 \times 98.4\% = 32.4 \times (1 - 1.6\%) \approx 32.4 - 0.5 = 31.9$ （万人），2013 年的就业人数为  $36.5 \times 94.5\% = 36.5 \times (1 - 5.5\%) \approx 36.5 - 2 = 34.5$ （万人），2009 年的就业人数为  $34.5 \times 98.8\% = 34.5 \times (1 - 1.2\%) = 34.5 - 0.4 = 34.1$ （万人），2010 年的就业人数为  $30.5 \times 95.2\% < 30$ （万人），所以 Y 省高校毕业生年底就业人数最高为 2013 年，最低为 2010 年。

因此，选择 C 选项。

99. (单选题) 假设高校毕业生年底就业率在男生和女生之间保持一致，2013 年 Y 省高校女性毕业生年底就业人数约为：

- A.16.1 万  
B.17.1 万  
C.18.4 万  
D.19.5 万

【正确答案】：C

【解析】

第一步，本题考查现期比重计算中的求部分量问题。

第二步，定位图形材料，可知 2013 年毕业生就业率为 94.5%。定位文字材料“2013 年 Y 省高校毕业生人数 36.5 万人，其中男生所在比例为 46.7%”。

第三步，根据公式部分量=整体量×比重。得到 2013 年 Y 省高校女性毕业生年底就业人数约为  $36.5 \times (1 - 46.7\%) \times 94.5\% \approx 36.5 \times 53.3\% \times 95\% \approx 36.5 \times 50\% \approx 18.25$ （万人），与 C 选项最为接近。

因此，选择 C 选项。

100. (单选题) 以下说法错误的是：

- A.2007 年—2013 年，Y 省高校毕业生中男生所占比例只有其中一年高于上一年  
B.2009 年—2013 年，Y 省高校毕业生年底就业率没有出现连续上升或下跌的情况  
C.2006 年—2013 年，Y 省高校毕业生累计不超过 250 万  
D.2009 年—2013 年，Y 省高校女性毕业生年底就业人数逐年上升

【正确答案】：D

【解析】

第一步，本题考查综合分析，且需选出错误的一项。

第二步，A 选项，简单比较中的读数比较问题。根据文字材料，“2006 年至 2013 年……其中男生所占比例分别为 54.8%、52.2%、52.5%、51.8%、51%、50.2%、48.8%和 46.7%”可知：只有 2008 年的 52.5%高于 2007 年的 52.2%，正确。

B 选项，简单比较中的读数比较问题。根据图形可知：2009 年—2013 年，Y 省高校毕业生年底就业率分别为 98.8%、95.2%、98.4%、92%、94.5%，有上升有下降，并没有连续上升或下降的情况，正确。

C 选项，简单计算中的和差类问题。根据文字材料，“2006 年至 2013 年 Y 省高校毕业生人数分别为 21 万人、27 万人、29.5 万人、34.5 万人、30.5 万人、32.4 万人、34.6 万人和 36.5 万人”。得到 2006 年—2013 年，Y 省高校毕业生累计人数为  $21 + 27 + 29.5 + 34.5 + 30.5 + 32.4 + 34.6 + 36.5 = 246 < 250$ （万人），正确。

D 选项，材料中并未提及 2009 年—2013 年 Y 省高校女性毕业生年底就业的相关数据，无法计算，错误。

因此，选择 D 选项。



扫描关注‘汕头闻思’公众号  
获取最新招考信息和备考资料



# 闻思教育