

版权所有

复制必究

# 2022 年度广东省事业单位集中招聘笔试 模拟卷 3

## 重要提示：

为维护您的个人权益，确保公务员考试的公平公正，请您协助我们监督考试实施工作。

本场考试规定：监考老师要向本考场全体考生展示题本密封情况，并邀请 2 名考生代表验封签字后，方能开启试卷袋。

二〇二二年

条形码  
粘贴处

请将此条形码揭下，  
贴在答题卡指定位置。

# 2022 年度广东省事业单位集中招聘笔试

## 模拟卷 3

### 注意事项

这项测验共有五个部分，100 道题，总时限为 90 分钟。

请在机读答题卡上严格按照要求填写好自己的姓名、涂写准考证号。

请仔细阅读下面的注意事项，这对你获得成功非常重要：

1. 题目应在答题卡上作答，不要在试题本上作任何记号。
  2. 监考人员宣布考试开始时，你才可以开始答题。
  3. 监考人员宣布考试结束时，你应立即放下铅笔，将试题本、答题卡和草稿纸都留在桌上，然后离开。
  4. 在这项测验中，可能有一些试题较难，因此你不要在一道题上思考时间太久，遇到不会答的题目，可先跳过去，如果有时间再去思考。否则，你可能没有时间完成后面的题目。
  5. 试题答错不倒扣分。
  6. 特别提醒你注意，涂写答案时一定要认准题号。严禁折叠答题卡！
  7. 考生可以在试题本的空白位置及草稿上进行演算。
- 这项测验要求你必须严格按照监考人员的指示去做，否则，会影响你的成绩！

停！请不要往下翻！听候监考老师的指示。  
否则，会影响你的成绩。

**一、常识应用，共 40 题，要求你运用基本常识进行分析判断，本部分含 3 类题型，分别为判断题，单项选择题，多项选择题。**

**(一) 判断题：**共 20 题，请判断一下表述的正误，正确的选 A，错误的选择 B，并在答题卡上将对应题号的字母涂黑。

1.对被判处死刑缓期执行的犯罪分子而言，只要两年缓刑执行期间有故意犯罪行为，就一律执行死刑。( )

- A.正确
- B.错误

2.人民法院在审理离婚案件时应当首先进行调解。( )

- A.正确
- B.错误

3.人格权独立成编被认为是民法典的突出亮点和重大创新，将我国法律对人身自由、人格尊严的保护提升到了新的高度。( )

- A.正确
- B.错误

4.我国法院在审理涉外民事案件时，即使适用外国法律规范将与我国公共秩序相冲突，我国也不能拒绝使用该法律规范。( )

- A.正确
- B.错误

5.为世界和平与发展作贡献，是我国应尽的国际义务。( )

- A.正确
- B.错误

6.党的思想路线是一切从实际出发，理论联系实际，实事求是，在实践中检验真理和发展真理。

- A.正确
- B.错误

7.中国特色社会主义理论体系包括马列主义、毛泽东思想、邓小平理论、“三个代表”重要思想及科学发展观等。（ ）

A.正确

B.错误

8.“缩小区域差距，实现协调发展”体现了可持续发展的基本原则。（ ）

A.正确

B.错误

9.思维和存在的关系问题是哲学的基本问题。（ ）

A.正确

B.错误

10.辩证的否定是外力作用的结果。（ ）

A.正确

B.错误

11.发文机关标志可以仅使用发文机关名称；联合行文时，发文机关标志可以单独用主办机关名称。（ ）

A.正确

B.错误

12.延安整风运动是中国共产党历史上第一次大规模的整风运动。（ ）

A.正确

B.错误

13.生产成本是价格构成的最基本、最主要因素，是价格构成的主体。（ ）

A.正确

B.错误

14.我国的分配结构的多样化决定所有制结构的多样化。（ ）

A.正确

B.错误

15.市场经济按照市场客体在社会再生产中的作用不同，可将其分为消费资料市场和生产资料市场。（ ）

A.正确

B.错误

16. 基尼系数是衡量收入分配均等程度的重要指标，基尼系数越大则分配越不均匀。（ ）

A.正确

B.错误

17. 毛泽东思想活的灵魂指的是实事求是、群众路线和独立自主，其核心是群众路线。（ ）

A.正确

B.错误

18.关汉卿的《单刀会》歌颂的是张飞。（ ）

A.正确

B.错误

19.1863 年，太平天国颁布的纲领性文件是《天朝田亩制度》。（ ）

A.正确

B.错误

20.公文基本构成的主体部分只包括印章和发文机关标识。（ ）

A.正确

B.错误

**（二）单项选择题：**共 10 题，每题只有 1 个答案是最恰当的，请将其选出，并在答题卡上将对应的题号的字母涂黑。

21.根据《中国共产党第十九届中央委员会第六次全体会议公报》，下列不属于党在社会主义革命和建设时期的主要任务的是（ ）。

A. 进行社会主义革命

B. 实现从新民主主义到社会主义的转变

C. 推进社会主义建设

D. 解放和发展社会生产力

22.在此次新冠肺炎疫情暂缺特效药与疫苗的情况下，侯云德参与研发的  $\alpha$  干扰素喷雾剂被国家卫健委发布的《新型冠状病毒感染的肺炎诊疗方案》推荐为抗

病毒治疗的试用药物，正在全国战“疫”中发挥着重要作用。作为我国分子病毒学、现代医药生物技术产业和现代传染病防控技术体系的主要奠基人，侯云德曾说“如果让我对年轻人说点什么，就是要学点哲学。哲学是规律的规律，在更高层次指导科研。认识实践再认识，直到无穷。”表明（ ）。

- A.哲学是科学之科学
- B.具体科学的进步推动哲学的发展
- C.哲学是人类对某一具体领域规律的概括
- D.哲学能为具体科学提供方法论的指导

23.下列词语体现了经济学中“边际效益递减”原理的是（ ）。

- A.覆水难收
- B.入芝兰之室，久而不闻其香
- C.一山不能容二虎
- D.城门失火，殃及池鱼

24.“燕子低飞蛇过道，必有大雨到”这句谚语包含的主要哲学道理是：

- A.世界是普遍联系的
- B.万事万物有许多机缘巧合
- C.它们之间是必然联系的
- D.矛盾具有普遍性

25.构建和谐社会的直接辩证法依据是：

- A.矛盾的不平衡性原理
- B.矛盾的斗争性原理
- C.矛盾的同一性原理
- D.矛盾的特殊性原理

26.事物发展的源泉在于：

- A.人的主观能动性
- B.事物之间的相互作用
- C.事物的内部矛盾
- D.外力的推动

27.从沟通媒介的丰富程度看，排在第一位的应该是（ ）。

- A.电话
- B.电子邮件
- C.面对面交流

D.文件

28.鲁迅在《新青年》杂志第4卷第5号上发表的第一篇白话小说是（ ）。

- A.《狂人日记》
- B.《孔乙己》
- C.《阿Q正传》
- D.《药》

29..在标准状况下，下列均属于固体可燃物质的是（ ）。

- A.硫磺、石蜡
- B.甲烷、面粉
- C.乙烷、酒精
- D.涂料、沥青

30.老子是中国古代伟大的思想家，道家学派创始人和主要代表人物，其作品的核心精华是朴素的辩证法，主张无为而治。下列属于老子名言的是（ ）。

- A.智者见智，仁者见仁
- B.穷则独善其身，达则兼济天下
- C.天下万物生于有，有生于无
- D.巧言乱德，小不忍则乱大谋

**（三）多项选择题：**共10题。每题给出的选项中，至少有2个选项符合题目要求，请将其选出，并在答题卡上将对应题号的字母涂黑。错选、多选、少选均不得分。

31 习近平总书记强调，要把坚定理想信念作为党的思想建设的首要任务，教育引导全党牢记党的宗旨，挺起共产党人的精神脊梁，解决好世界观、人生观、价值观这个“总开关”问题。这是因为（ ）。

- A.有什么样的社会存在就有什么样的社会意识
- B.正确的意识具有指导人们改造世界的功能
- C.客观情况变了主观也要发生相应的变化
- D.有什么样的世界观就有什么样的方法论

32.以人为本”的含义包括（ ）。

- A.把人民的利益作为出发点和落脚点

- B.尊重人权
- C.不断提高人民的思想道德素质、科学文化素质和道德素质
- D.创造人民充分发挥聪明才智的社会现象

33..三大产业，或三次产业，其划分，世界各国不完全一致，但基本均划分为三大类：第一产业、第二产业和第三产业。下列关于三大产业的关系的说法正确的有（ ）。

- A.第一产业为第二、三产业奠定基础
- B.第一产业是三大产业的核心，对第二产业有带动作用
- C.第一、二产业为第三产业创造条件
- D.第三产业发展促进第一、二产业的进步

34..下列关于刑事责任表述正确的是：

- A.过失犯罪，法律有规定的才负刑事责任
- B.已满十六周岁的人，应当负刑事责任
- C.精神病人实施的危害行为一概不负刑事责任
- D.醉酒的人犯罪，应当负刑事责任

35.甲欲购买乙的二手车，并支付给乙订金 1 万元。后乙反悔，却不归还甲的订金。甲多次索要无果，便邀其好友丙商量，由丙开车放风接应，于某日下午放学之时，将乙的 7 岁儿子强行带走，并向乙打电话索要订金 1 万元。下列说法错误的有：

- A.甲是主犯，丙是胁从犯
- B.甲、丙的行为构成绑架罪
- C.甲、丙的行为构成共同犯罪
- D.对于丙，应当从轻、减轻或者免除处罚

36.红军在长征途中经历了：

- A.四渡赤水河
- B.攻占汀泗桥
- C.渡过金沙江
- D.飞夺泸定桥

37.下列属于吉林省主要通航河流的是：

- A.松花江
- B.鸭绿江
- C.嫩江



D.钱塘江

38.刑罚执行是国家对犯罪的侦查、审判、执行等刑事司法活动的最后环节，是对人民法院生效的判决所确定的刑罚，由公安机关、监狱等具有行刑权的机关依法将其付诸实施的活动。下列选项中，属于公安机关执行的刑罚有（ ）。

- A.死刑
- B.管制
- C.拘役
- D.驱逐出境

39.死刑是我国刑法中规定的最严厉刑罚，我国对死刑采用的是“严格限制使用”的原则，根据上诉原则，下列不适用死刑的有（ ）。

- A.犯罪时不满 18 周岁的人
- B.审判时年满 70 周岁的人
- C.审判时怀孕的妇女
- D.盲人和聋哑人

40.下列事项适用通报的有：

- A.批评错误
- B.表彰先进
- C.汇报工作
- D.传达重要精神

## 二、阅读理解共 10 题，每道题给出一段短文，短文后面有一个不完整的陈述，

要求你从 4 个备选项中选出符合题干要求的 1 项

41 教师对学术保持\_\_\_\_\_，学生才会对教师保持敬重。一些教师一旦跨过某个门槛，达到某个职称、职级后，就逐渐放弃职守，忙于场面上的应酬，自己做“甩手掌柜”和“后台老板”，把学生当作“学术民工”来使唤。这个过程往往导致学生对学术理想的\_\_\_\_\_。

依次填入划横线部分最恰当的一项是：

- A.爱慕 丧失
- B.敬畏 幻灭
- C.热忱 绝望
- D.追求 失望

42.大脑储存了人脸和人名，为什么我们最终还是只记得其一而记不住其二？这是因为，大脑在回忆时实行的是一种双轨制记忆系统，结果就造成了一类普遍而恼人的感觉：认得出某个人，但想不起来为什么或怎么会认得，也记不起对方的名字叫什么。其根源在于大脑对人或事有熟悉与回忆之分。解释得更清楚一点，熟悉（或者说认得）是指在遇到某个人或某件事时知道自己见过或做过，但此外就什么也没有了，只知道记忆里已经有这个人或事存在。而回忆是指能回想起当初怎么认识和为什么认识这个人的记忆。因此，认得一个人仅仅标示出了有记忆存在的事实。这段文字意在说明（ ）。

- A.双轨制记忆系统是人类所特有的
- B.为什么我们记得人脸却想不起名字
- C.大脑对人或事有熟悉与回忆之分
- D.认得一个人只能说明有记忆存在

43.①除此之外，他还建立了第一个稳定的极光观测站，并证实了太阳风的存在  
②基于地磁学测量显示，北极光的活动几乎是不间断的，伯克兰得出结论说地球不停地被来自太阳的带电粒子射线轰炸  
③他设计的精彩实验给公众留下了深刻的印象，但为技术所限，直到上世纪 60 年代才终于被卫星观测所证实  
④伯克兰还发明了线圈炮和从空气中固氮的“伯克兰—艾德电弧法”，曾被提名诺贝尔奖达 7 次之多，可惜最终没有获奖  
⑤1896 年，伯克兰提出，来自太阳的带电粒子能够点燃北极光  
⑥为了证实他的理论，他建造了一个实验系统，用一个装有电磁铁的模型来模拟地球，被称为“特洛拉”

将以上 6 个句子重新排序，语序正确的是（ ）。

- A.①⑥⑤④③②
- B.⑤⑥①②④③
- C.⑥①②④③⑤
- D.②③④⑤⑥①

44.今天，“民法典解答孩子红包能不能自己保管”冲上热搜，困扰孩子们多年的“压岁钱谁来管”的终极难题，终于在法律上得到了解答。专家的阐释可以作为孩子们争取自己保管压岁钱的依据，但更重要的是，借保管压岁钱这个契机，我们可以引导孩子形成对自由支配权的理解以及正确的消费观念、理财意识。家长不愿意孩子自行保管压岁钱，很大程度上是因为担心孩子会乱花，这种担心不无道理。这些年，未成年人大额打赏主播、过量进行网游消费等现象屡见不鲜。未成年人对金钱的滥用行为，背后凸显的是他们尚未形成理性消费观念和理财规划意识。最能概括上述文段的中心意思的是：（ ）。

- A.民法典可以作为孩子们争取自己保管压岁钱的依据
- B.由谁保管压岁钱不重要，重要的是要教会孩子们如何花钱
- C.家长要注重培养孩子的理性思考能力
- D.家长不愿孩子保管压岁钱有一定道理，我们要支持

45.红的、黄的、粉的、各色玫瑰，相继绽放，惹得人眼前一亮，美丽的花朵\_\_\_\_\_了生活，普通的日子\_\_\_\_\_了些色彩、滋味和乐趣。填入划横线部分最恰当的一项是：

- A.装点 平移
- B.装修 增加
- C.装修 平添
- D.装点 增加

46.在原始社会，人们唱歌、跳舞，但是不写诗，因为那时候没有文字。同理，史前时代的人也演剧，而且有文字之后多数中国戏剧演员并不识字，戏剧演出主要是以口传心授的方式传承与传播的。然而长时间以来，人们陷入了文字与文献崇拜的陷阱不能自拔，乃至文献考据一直成为文学史、戏剧史研究中最受推崇、最有效接近历史真实的研究方法。如果戏剧史研究领域有“新材料”的话，那一定不仅仅是文献。这段文字主要强调了：

- A.戏剧史研究要对接传统研究并突破局限
- B.戏剧史研究要更新理念并创新研究方法
- C.戏剧史研究既要重文献又要重考证考据
- D.戏剧史研究应扩大研究领域和研究方法

47.生活是一位\_\_\_\_\_的长者，是一位\_\_\_\_\_的老师，它常常春风化雨，润物无声地为我们指点迷津，给我们人生的启迪。填入横线处的词语最恰当的一项是：

- A.睿智 博学
- B.明智 博学
- C.睿智 博爱
- D.明智 博爱

48.“一粥一饭，当思来之不易；半丝半缕，恒念物力维艰。”这句话启示我们要：

- A.量入为出，适度消费
- B.勤俭节约，艰苦奋斗
- C.保护环境，绿色消费
- D.避免盲从，理性消费

49.旅游胜地名泉多，仅“天下第一泉”就有四处。到底谁是第一，恐怕陆羽在世，也会感到难以\_\_\_\_\_的。填入划横线部分最恰当的一项是：

- A.理解
- B.察觉
- C.想象
- D.判断

50.实践活动的基本特点包括（ ）。

- A.客观物质性
- B.主观能动性
- C.社会历史性
- D.阶级对立性

**三、数字推理共 10 题，每道题给出一个数列，但其中缺少一项，要求你仔细观察这个数列数字之间的关系，找出其中的规律，然后从 4 个备选项中选出最合理的 1 项来填补空缺。**

51. 8, 10, 11, 11, 14, 12, 19, ( )

- A. 14
- B. 15
- C. 16
- D. 17

52. 8. 13, 16. 24, 32. 44, 64. 84, ( )

- A. 128. 168
- B. 128. 164
- C. 128. 162
- D. 128. 160

53. 158, 181, 216, 265, 330, ( )

- A. 397
- B. 413
- C. 424
- D. 431

54. 2, 6, 18, 54, ( )

- A. 186
- B. 162
- C. 194
- D. 196

55. 0, 0, 1, 4, ( )

- A. 5
- B. 7
- C. 9
- D. 11

56. 9, 12, 21, 48, ( )

- A. 63
- B. 102
- C. 129
- D. 165

57. 2, 3, 5, 13, 62, ( )

- A. 802
- B. 912
- C. 1043
- D. 1278

58.  $-\frac{4}{9}, \frac{10}{9}, \frac{4}{3}, \frac{7}{9}, \frac{1}{9}, ( )$

- A.  $\frac{7}{3}$
- B.  $\frac{10}{9}$
- C.  $-\frac{5}{18}$
- D. -2

59..521, 232, 172, 422, ( )

- A. 158
- B. 233
- C. 397
- D. 406

60.

|    |     |    |    |    |    |    |     |    |    |   |    |
|----|-----|----|----|----|----|----|-----|----|----|---|----|
| 10 |     | 20 | 19 |    | 40 | 39 |     | 11 | 12 |   | 38 |
|    | 102 |    |    | 34 |    |    | 136 |    |    | ? |    |
| 3  |     | 4  | 38 |    | 2  | 3  |     | 22 | 24 |   | 6  |

- A. 80
- B. 82
- C. 84
- D. 86

**四、数学运算共 10 题。利用所给条件及基本的数学知识解答以下问题，从 4 个备选项中选出最符合题干的要求的 1 项。**

61.某电影院根据放映时间将电影票分为 A 档、B 档和 C 档，票价分别为 30 元、50 元和 80 元。某天有 5200 名观众购票观影。电影院售票收入为 25.5 万元。已知售出的 A 档电影票是 C 档电影票的 2 倍。则当天售出 B 档电影票 ( ) 张。

- A.500
- B.1000
- C.3700
- D.4600

62.汽车牌照“粤 A12B45”，如果在 1245 的位置可选择 10 个数字“0~9”和 26 个英文字母“A~Z”的一个，则可以形成几个不同的牌照？

- A.1679628
- B.1296000
- C.466560
- D.1679616

63.甲、乙两人从两地出发相向而行，他们在相遇后继续前行。当甲走完全程的

70%时，乙正好走完全程的 $\frac{2}{3}$ ，此时两人相距 220 米，问两地相距多少米？

- A.330 米
- B.600 米
- C.800 米
- D.1200 米

64. $1-2+3-4+5-6+7-8+\cdots+1989-1990+1991=(\quad)$

- A.895
- B.896
- C.995
- D.996

65.某单位男女干部人数相等，男干部中 60%有基层工作经历，女干部中 50%有基层工作经历，则在该单位全体干部中，有基层工作经历的占 $(\quad)$ 。

- A.55%
- B.60%
- C.65%
- D.70%

66.某人批发了若干圆珠笔，如果将圆珠笔消费的资金用来买铅笔，则多买 40 支，如果用来买钢笔则少买 9 支，已知每支铅笔 1 角 5 分钱，每支钢笔 2 元 6 角钱，则每支圆珠笔的单价是：

- A.5 角 8 分
- B.5 角 6 分
- C.6 角 5 分
- D.6 角 8 分

67..有编号为 1—13 的卡片，每个编号有 4 张，共有 52 张卡片。问至少摸出多少张，就可保证一定有 3 张卡片编号相连？

- A.27 张
- B.29 张
- C.33 张
- D.37 张

68.快递员小张在 A、B、C 三个小区送快递。已知小张走三条线路 A—B—C，B—

C—A 和 C—A—B 所花的时间分别为 15 分钟、17 分钟和 18 分钟。那么距离最近的两个小区之间的路程要花（ ）分钟。

- A.7
- B.8
- C.9
- D.10

69.若一个棱长为 20 厘米的正方体表面上挖一个棱长为 10 厘米的正方体洞，问大正方体的表面积增加了多少？

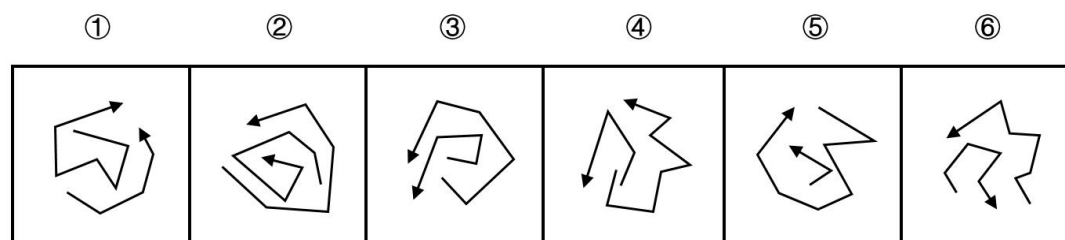
- A.100cm<sup>2</sup>
- B.400cm<sup>2</sup>
- C.500cm<sup>2</sup>
- D.600cm<sup>2</sup>

70.某公司年末分红，在整个盈利中除去三分之一的税收，再除去六分之一的公司经营，再把四分之一作为明年的准备金，剩下的以年终奖的形式来分给公司员工，已知员工总数为 215 人，且每人分到了 12000 元奖金，则该公司明年的准备金为（ ）万元。

- A.206.4
- B.1032
- C.258
- D.193.5

**五、图形推理共 10 题，每道题给出图形，要求你认真观察，根据题干要求，从 4 个备选项选出最合理的 1 项。**

71.从所给的四个选项中，选择最合适的一个填入问号处，使之呈现一定的规律性。（ ）

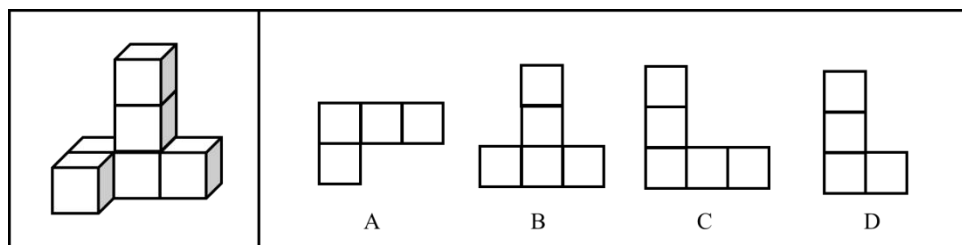


- A.①⑤⑥，②③④
- B.①②⑤，③④⑥



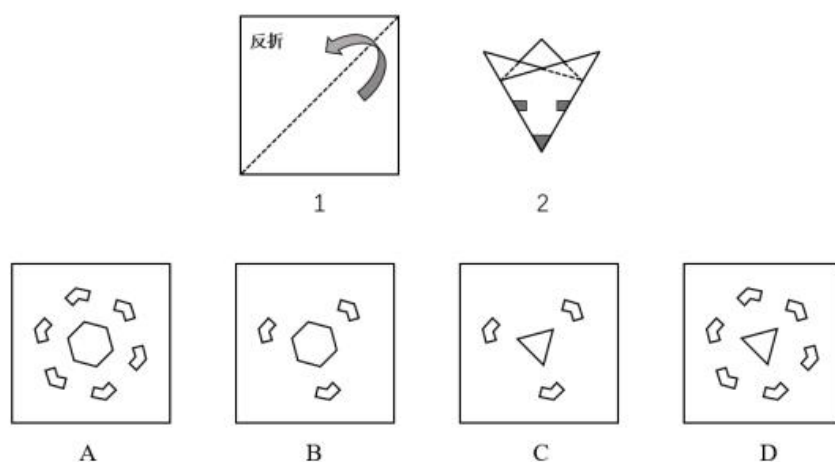
- C.①②③, ④⑤⑥  
D.①③⑤, ②④⑥

72.观察下列四个选项, 哪个不是左侧立体图形的视图?



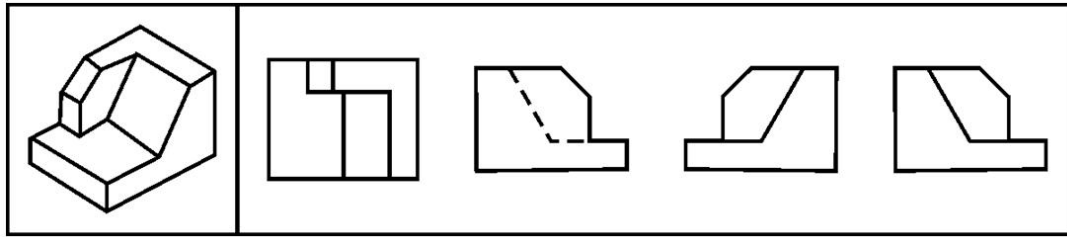
- A.如上图所示  
B.如上图所示  
C.如上图所示  
D.如上图所示

73.将正方形沿着图 1 中实线对折, 再折成图 2 所示形状, 将黑影部份剪掉, 展开后会是哪个图形:



- A.如上图所示  
B.如上图所示  
C.如上图所示  
D.如上图所示

74.下图右侧的 4 个图形中, 除了 ( ), 都是左侧立体物体的投影图:



A

B

C

D

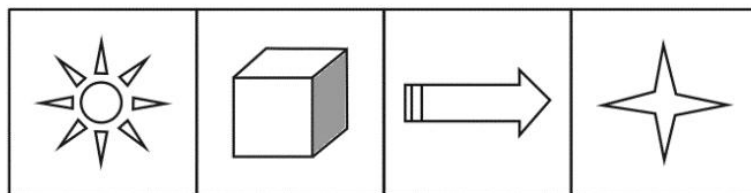
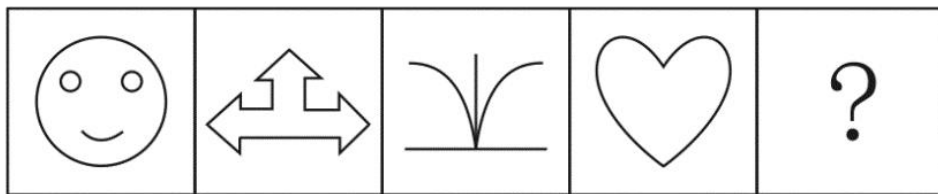
A.如上图所示

B.如上图所示

C.如上图所示

D.如上图所示

75.从所给的四个选项中，选择最合适的一个填入问号处，使之呈现一定的规律性：



A

B

C

D

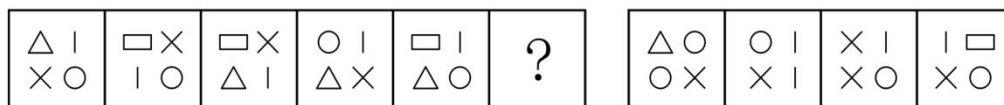
A.如上图所示

B.如上图所示

C.如上图所示

D.如上图所示

76.从所给的四个选项中，选择最合适的一个填入问号处，使之呈现一定的规律性：



A

B

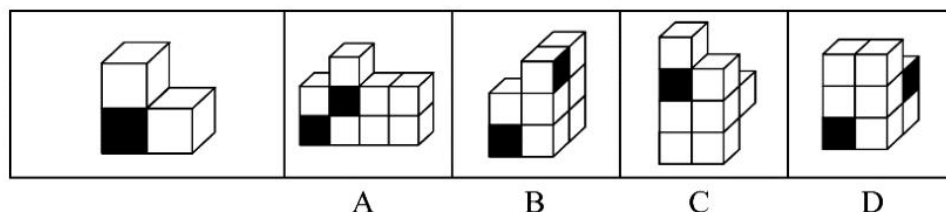
C

D

A.如上图所示


- B.如上图所示
- C.如上图所示
- D.如上图所示

77.左侧立体图形仅有图中所示的一个面被涂黑。下列选项不可能由三个左侧立体图形构成的是（ ）。



- A.如上图所示
- B.如上图所示
- C.如上图所示
- D.如上图所示

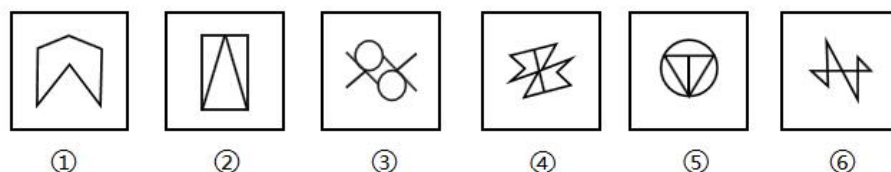
78.从四个图中选出唯一的一项，填入问号处，使其呈现一定的规律性。



- A.如上图所示
- B.如上图所示
- C.如上图所示

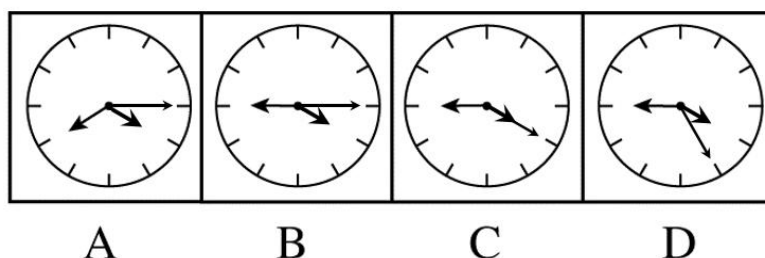
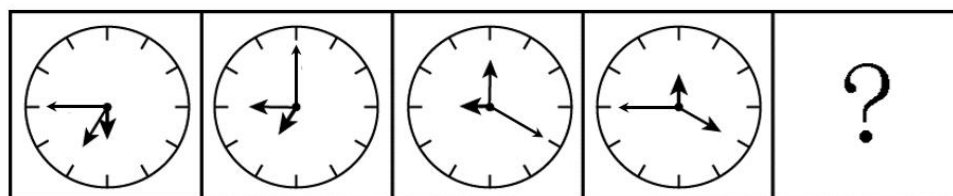
D.如上图所示

79.将以下图形序列中的哪两个调换位置之后，可以呈现出一定的规律性？



- A.②和③
- B.③和④
- C.④和⑤
- D.⑤和⑥

80..从所给的四个选项中，选择最合适的一个填入问号处，使之呈现一定规律（ ）。



- A.如上图所示
- B.如上图所示
- C.如上图所示
- D.如上图所示

**六、逻辑判断共 10 题，每道题给出一段陈述，这段陈述被假设是正确的，要求你仅根据这段陈述直接推理，从 4 个备选项中选出最合理的 1 项。**

81.为什么只有人类有下巴?一直以来，人们对下巴这一看似毫无用处的附属部位提出了多种不同解释。新研究指出，下巴的进化源于人类牙齿与下颚的萎缩，这是由于烹饪使食物变软所致。以下哪项是上述论证所依赖的假设？

- A.下巴出现的时期与人类发明烹饪的时期是重合的

- B.烹饪使人类再无需咀嚼未加工的肉类和植物，因此也无需大颗牙齿
- C.下巴是在人类祖先与灵长类其他分支分离后进化而来的
- D.下巴出现的时期与人类智力出现巨大飞跃的时间重合

82.在北京奥运会前后，身穿速比涛公司生产的鲨鱼皮泳衣参赛的游泳运动员们几乎打破了所有的世界纪录。这一旋风直接造成了运动员争相要求身穿这种新式泳衣，而和旧的、自己的赞助商决裂，这影响到了几乎所有的世界级大型体育用品品牌。由此不能推出：

- A. “鲨鱼皮”泳衣大大提高了运动员成绩
- B.除了速比涛公司，其他公司没有制造出这样的泳衣
- C.赞助商一般要求自己赞助的运动员在比赛中穿自己品牌的泳衣
- D.所有世界级大型体育用品品牌都有赞助的运动员

83.春天来了，花园鲜花朵朵，美不胜收。

甲：红色的花是桃花。

乙：红色的花可能是桃花。

丙：红色的花是杏花。

花园里不会同时出现桃花和杏花，只有一人说对，那么对的是：

- A.甲
- B.乙
- C.丙
- D.无法断定

84.千万不能因为近期物价有所回落，就减少对农产品生产经营的关注。要保证农产品价格不涨，功夫恰恰要下在其价格最低的时候，只有在这个时候保护农民的积极性，让农民不退出生产，才能使农产品价格保持稳定。据此，可以推断：

- A.如果农民退出生产，农产品价格就不能保持稳定
- B.只有让农民不退出生产，才能保护农民的生产积极性
- C.只要关注农产品的生产经营，就能保证农民不退出生产
- D.只有在农产品价格最低的时候，保护农民的生产积极性才最有效

85.如果甲和乙都没有考上研究生，那么丙就考上研究生。

要得出甲考上研究生的结论，还需基于以下哪一前提为真？

- A.丙考上研究生
- B.丙没有考上研究生
- C.乙和丙都没有考上研究生
- D.乙和丙没有都考上研究生

86 张教授和李教授都有可能受邀参加某高校的学术研讨会。现在，张教授得知了以下信息：

- ①张教授和李教授，会议主办方至少会邀请一位参加。
- ②会议主办方一定会邀请张教授参加。
- ③会议主办方不可能邀请张教授参加。
- ④会议主办方一定会邀请李教授参加。

假如上述信息有两条为真，两条为假，则：

- A.会议主办方将邀请张教授参加而不邀请李教授
- B.会议主办方将邀请李教授参加而不邀请张教授
- C.会议主办方将同时邀请李教授和张教授参加
- D.会议主办方既不邀请张教授参加，也不邀请李教授参加

87. “爆竹声声除旧岁”，说的是欢度春节时的传统习俗，春节燃放烟花爆竹虽然喜庆，但是会带来空气、噪音等环境污染问题，还可能引起火灾，一旦引起火灾，势必造成人身伤亡和财产损失，现在很多城市已经限制燃放，这样就可以避免发生火灾，而且只要限制燃放，就能避免环境污染，让空气新鲜、环境优美。以下哪项如果为真，最可能质疑上述结论？

- A.火灾会造成人身伤亡
- B.限制燃放烟花爆竹能避免火灾的发生
- C.限制燃放烟花爆竹不能避免环境污染
- D.保护环境人人有责

88.经济学院有一部分学生选择在校外公寓住宿，有调查发现，在校外公寓住宿的学生学习成绩比在校内公寓住宿的学生学习成绩更高一些。由此可见，在校外公寓住宿有利于学生成绩的提高。下列选项最能削弱以上论证的是：

- A.校外公寓住宿使学生能自由选择室友，利于学生互相督促安心学习
- B.校外公寓住宿条件更好，学生学习更有效率
- C.学院规定成绩排名不在前 30%的学生不得在校外公寓住宿
- D.校外公寓住宿能培养学生的自主学习能力，从而提高学习成绩

89.尽管计算机可以帮助人们进行沟通，计算机游戏却妨碍了青少年沟通能力的发展，他们把课余时间都花在玩游戏上，而不是与人交流上，所以说，把课余时间花费在玩游戏上的青少年比其他青少年有较少的沟通能力。以下为上述论证最可能假设的是：

- A.一些被动的活动，如看电视和听音乐，并不会阻碍孩子们交流能力的发展
- B.大多数孩子在玩电子游戏之外还有其他事情可做

- C.在课余时间不玩电子游戏的孩子至少有一些时间是在与人交流
- D.传统的教育体制对增加孩子们与人们交流的能力没有帮助

90.领导考虑分派 a、b 两人执行一项特殊任务，经过讨论，有四个建议：

- ①选择 a 但不选择 b；
- ②或者不选择 a，或者选择 b；
- ③如果选择 b，则选择 a；
- ④选择 b，但不选择 a。

据此，可以断定，不可能由同一个人提出的建议是：

- A.①和②
- B.①和③
- C.②和③
- D.①和④

**七、资料分析共 10 题。针对一段资料有 5 个问题，你需要根据资料所提供的信息进行分析、比较、计算，从 4 个备选项中选出符合题意的 1 项。**

**根据下面的文字及图片材，回答 91-95 题。**

为了解市民家庭存书（不含教材教辅）阅读和共享意愿情况，某市统计局成功访问了 18 岁以上的常住市民 2007 人。调查显示，关于家庭存书共享意愿的问题，选择“无条件愿意”“有条件愿意”“不愿意”“不知道/不清楚”的受访市民所占比重分别是 60.8%、15.1%、20.6%、3.5%。

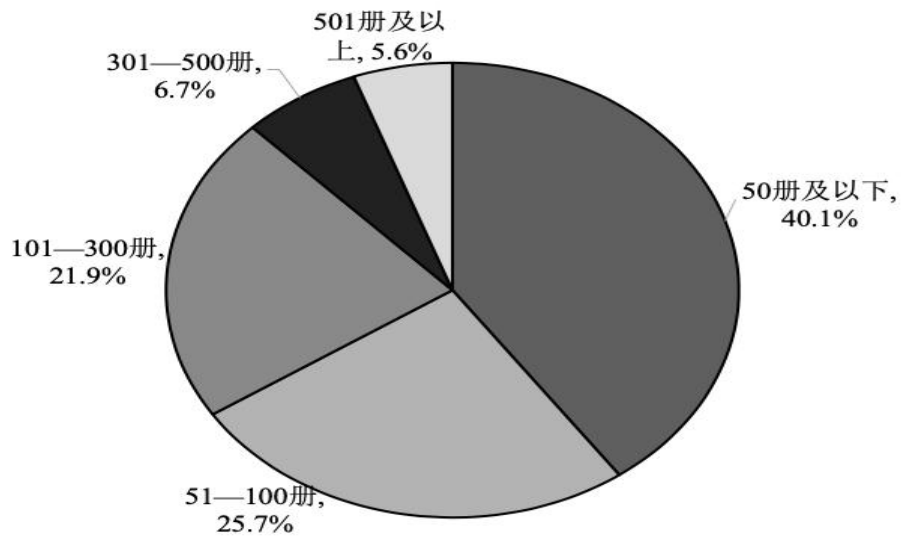


图1 受访市民家庭存书情况

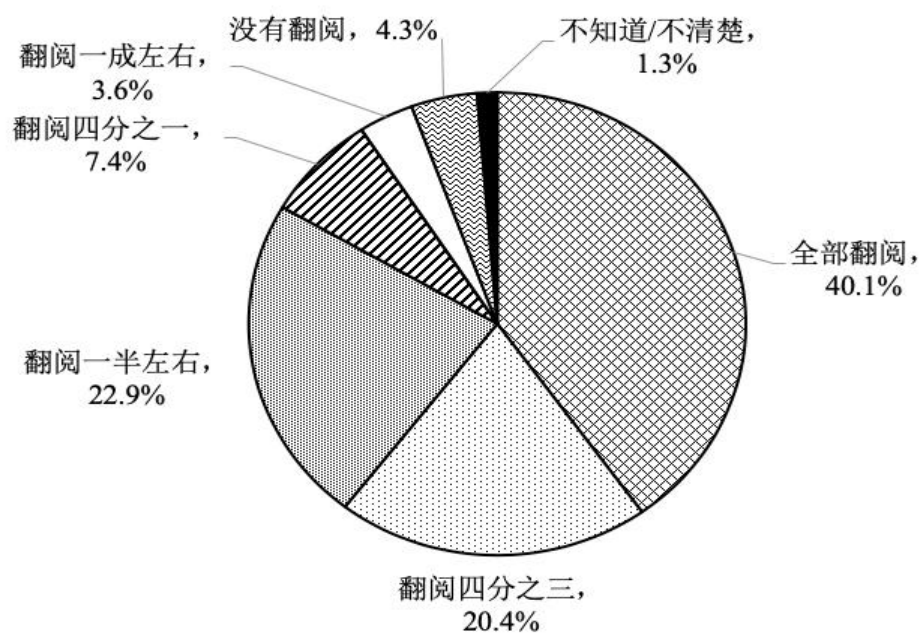


图2 受访市民家庭存书翻阅情况

91.家庭存书超过 300 册的受访市民人数为:

- A.134
- B.247
- C.616
- D.805

92.选择“无条件愿意”共享家庭存书的受访市民比选择“有条件愿意”的多:

- A.5 倍



- B.4 倍
- C.3 倍
- D.2 倍

93.家庭存书被翻阅不少于四分之一的受访市民人数不可能为:

- A.1825
- B.1810
- C.1846
- D.1838

94.选择“无条件愿意”共享家庭存书的受访市民中，一定有人家庭存书为:

- A.50 册及以下
- B.51—100 册
- C.101—300 册
- D.301 册及以上

95.不能从上述资料推出的是:

- A.有一半以上的受访市民家庭存书不超过 100 册
- B.家庭存书被翻阅 10%左右的受访市民不超过 100 人
- C.家庭存书被全部翻阅的受访市民中有人选择“不愿意”共享家庭存书
- D.选择“无条件愿意”与选择“不愿意”共享家庭存书的受访市民相差 800 人以上

根据下面的文字材料，回答 96-100 题。

为了解网站对不同年龄段用户群体的吸引力，某综合网站随机调查了 3000 名该网站的用户，主要调查内容为用户在该网站首选阅读的频道（下简称首选频道）。

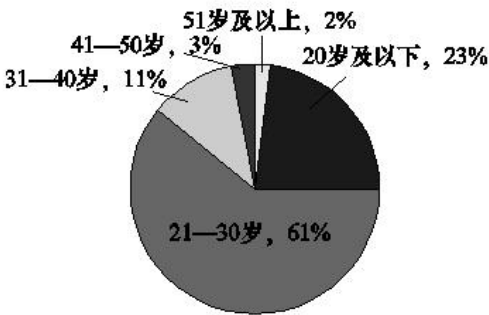


图 1 调查样本年龄构成情况图

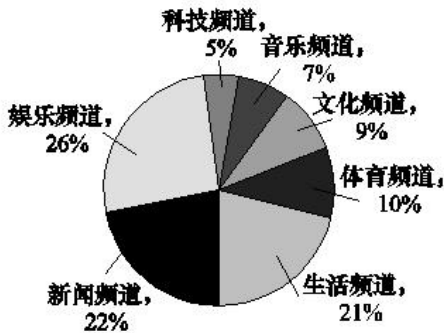


图 2 网站各首选频道的用户数比例图

各个首选频道的用户群体中不同年龄段人数的比例(单位：%)

|      | 20 岁及以下 | 21—30 岁 | 31—40 岁 | 41—50 岁 | 51 岁及以上 |
|------|---------|---------|---------|---------|---------|
| 娱乐频道 | 25.4    | 63.6    | 8.3     | 2.2     | 0.5     |
| 新闻频道 | 18.3    | 62.3    | 14.7    | 2.6     | 2.1     |
| 生活频道 | 22.8    | 65.2    | 8.2     | 2.2     | 1.6     |
| 体育频道 | 9.9     | 63.7    | 18.7    | 4.4     | 3.3     |
| 文化频道 | 32.3    | 49.2    | 10.8    | 3.1     | 4.6     |
| 音乐频道 | 35.9    | 57.5    | 4.7     | 1.6     | 0.3     |
| 科技频道 | 27.3    | 45.5    | 15.9    | 4.5     | 6.8     |

注：假设本次调查能够代表该网站用户的真实阅读情况。

96.如果该网站日均登录流量为 6 万人，则平均每日首选生活频道的用户约为( )人（不考虑同一用户反复登录该网站的情况）。

- A.331
- B.1260
- C.3310
- D.12600

97.本次调查中，首选频道为体育频道的 51 岁及以上用户一共约有（ ）名。

- A.10
- B.18
- C.47
- D.99

98.与该网站 21~30 岁的用户相比，该网站 31 岁及以上用户普遍对（ ）更感兴趣。

- A.文化频道
- B.音乐频道
- C.新闻频道
- D.科技频道

99.如果有企业在该网站上播放广告，企业产品定位是 31~40 岁的人群，那么它播放广告的频道应该首选：

- A.音乐频道
- B.生活频道

- C.新闻频道
- D.体育频道

100.根据上述资料，下列说法正确的是：

- A.该网站科技频道对 31 岁以上用户的吸引力远大于该频道对 20 岁及以下用户的吸引力
- B.20 岁及以下用户已经成为该网站继 21~30 岁用户之后的第二大用户群
- C.在该网站所有频道中，41~50 岁用户数量均大于 51 岁及以上用户数量
- D.与其他频道相比，该网站的文化频道对 21~30 岁用户的吸引力最低